

日 本 史

第1問 次の(1)~(5)を読んで、以下の問いに答えよ。

(1) 奈良時代には、唐との交流によって国際色豊かな天平文化が花開いた。そこでは律令国家の確立によって国家意識が高まり、唐にならって『日本書紀』などの国史編纂事業が行われた。貴族や官人らには漢籍の知識が^(ア)必須の教養とされ、日本における現存最古の漢詩集である A が^あ編まれたのもこの時代である。

元号「令和」の典拠となった『万葉集』には仁徳天皇から759（天平宝字3）年までの和歌約4500首が収録され、^(イ)貧窮問答歌の作者として知られる B や彼と筑紫歌壇を形成した大伴旅人ら、いわゆる万葉歌人の歌だけでなく、東国の民衆たちが詠んだ東歌や防人歌などもある。

正倉院に代表される建築物やこの時代の美術作品もまた、シルクロード経由で伝来した往時の西域の文化を^(ウ)今に伝えている。

問1 空欄 A B に当てはまる語句として最も適切なものを、以下から選べ。

- | | | | |
|---|---|---------|-----------|
| 1 | A | ① 『凌雲集』 | ② 『文華秀麗集』 |
| | | ③ 『懷風藻』 | ④ 『経国集』 |
| 2 | B | ① 山上憶良 | ② 山部赤人 |
| | | ③ 大伴家持 | ④ 伴健岑 |

問2 下線部(ア)を含めた時代に執筆された歴史書を総称して六国史という。六国史にある記述として最も適切なものを、以下から選べ。 3

- ① 其れ万機こさいの巨細おのれす、百官己しかに総のちべ、皆太政大臣そうげに閔白し、然る後に奏下すること一に旧事の如くせよ
- ② 三いわに曰く、詔みことりを承うけたまわりては必ず謹つつしめ
- ③ 倭国乱れ、相攻伐こうばつして年へを歴すなわたり。乃ち共に一女子を立てて王と為す。名ひみこを卑弥呼いと曰ふ
- ④ それ往生おうじょうごくらく極楽きょうぎょうの教行じやくせは、濁世もくそく末代の目足なり




問3 下線部(イ)に採録された和歌として最も適切なものを、以下から選べ。

4

- ① 見渡せば山もと霞むみなせ川夕べは秋なにおもと何思ひけん
- ② 箱根路はこねじをわが越えくれば伊豆の海や沖の小島に波のよるみゆ
- ③ 君に恋ひいたもすべ無なみ奈良山の小松が下に立ち嘆くかも
- ④ み渡せば花ももみぢもなかりけり浦とまやの苦屋の秋の夕ぐれ

問4 下線部(ウ)に当てはまる作品として最も適切なものを、以下から選べ。

5



②出典：ColBase (<https://colbase.nich.go.jp/>)
②・③は著作権の都合により、類似の写真と差し替えています。

(2) 白河天皇は1086（応徳3）年， C に位を譲り，自らは上皇として幼い天皇を後見しながら政治の実権を握る院政を行なった。上皇の周囲には院近臣(エ)と呼ばれる一団が形成され，上皇から荘園や収益の豊かな国を与えられたが，この頃には大寺院も多くの荘園を所有し，朝廷に自らの要求を通そうと独自の武力を持った。神仏の威を恐れた朝廷は武士の力を用いざるを得なくなり，武士の中央への進出(オ)を招くことになったのである。地方でも各地の武士が勢力を拡大し，とりわけ平泉(カ)を根拠地とした D から奥州藤原氏が繁栄を誇った。

問5 空欄 C D に当てはまる語句として最も適切なものを，以下から選べ。

- | | | | |
|---|---|--------|---------|
| 6 | C | ① 鳥羽天皇 | ② 後冷泉天皇 |
| | | ③ 堀河天皇 | ④ 順徳天皇 |
| 7 | D | ① 藤原基衡 | ② 藤原師輔 |
| | | ③ 藤原清河 | ④ 藤原惺窩 |

問6 下線部(エ)に関する説明として最も適切なものを，以下から選べ。 8

- ① 上皇・天皇の印・太政官の印を保管し，官吏任命や位を授ける事務を扱った。
- ② 上皇・天皇に近侍して庶政を議し，上皇・天皇への奏上や上皇・天皇の宣下をつかさどった。
- ③ 上皇・天皇の側近に侍して，機密の文書や訴訟を扱った。
- ④ 上皇・天皇の乳母の血縁者が多く，初期には各地の国司をつとめたものが多かった。

問7 下線部(オ)に関連して、以下の出来事の発生順として最も適切なものを、以下から選べ。 9

X 藤原忠通と頼長の兄弟対立に双方が武士を動員して争いが勃発した。




Y 関東の兵乱を藤原秀郷と平貞盛が平定した。

Z 陸奥の土豪安倍頼時が藤原経清とともに国司に反抗したが、朝廷の命を受けた武士に平定された。

- ① X-Y-Z ② Y-Z-X ③ Z-X-Y ④ Y-X-Z

問8 下線部(カ)の文化を象徴する写真として最も適切なものを、以下から選べ。

10



(3) 源頼朝は御家人たちを諸国の守護や地頭に任じることで軍事・警察権を握った。幕府の御家人たちは領内の拠点に館をかまえ、犬追物、流鏑馬、 E など騎射三物と呼ばれる武芸を競い、惣領を中心に結束して幕府への奉公にはげんだ。各地に任じられた地頭には横暴な振る舞いも見られ、公領や荘園の領主との間ではしばしば対立が引き起こされた。このような土地を媒介にした主従関係を中心とする社会制度を、 F と呼ぶ。

問9 空欄 E F に当てはまる語句として最も適切なものを、以下から選べ。

- | | | | | | |
|----|---|--------|-------|-------|-------|
| 11 | E | ① 笠懸 | ② 卷狩 | ③ 軍役 | ④ 鉄砲 |
| 12 | F | ① 蔭位の制 | ② 条坊制 | ③ 条里制 | ④ 封建制 |

問10 下線部(キ)に関する説明として最も適切なものを、以下から選べ。 13

- ① 下剋上の結果、朝倉氏、織田氏、尼子氏などが戦国大名に成長した。
- ② 国内の御家人に天皇や院の御所を警備する役目を催促することができた。
- ③ 将軍の直臣で、幕府の直轄軍を5番編成約300人で構成した。
- ④ 下司・公文・荘司などに従属して荘園の経営を行った。

問11 次の史料は下線部(ク)に関する出来事について書かれたものである。この出

来事の関係者として最も適切な人物を次のうちから一つ選べ。 14

故右大將軍朝敵を征罰し、関東を草創してより以降、官位と云ひ、俸禄と云ひ、其の恩既に山岳よりも高く、溟渤よりも深し。報謝の志浅からんや。而るに今逆臣の讒に依て、非義の綸旨を下さる。名を惜しむの族は、早く秀康・胤義等を討ち取り、三代將軍の遺跡を全うすべし

(『吾妻鏡』)

(注1) 右近衛大將源頼朝。

(注2) 鎌倉に幕府を開いたこと。

(注3) はてしなく広い海。大海。

(注4) (頼朝の) 恩に報いる気持ちが浅くてよいものだろうか。

(注5) 事実でないことをいって他人をおとしめること。

(注6) ここでは北条義時追討令。

(注7) 北面の武士藤原秀康、大番役勤仕のため在京中の三浦胤義。いずれも院方についた武士。

(注8) 残された家や所領を完璧に保つ。

① 北条時房 ② 北条貞時 ③ 北条高時 ④ 北条長時

問12 下線部(ク)に関し、両者で土地を分割することを定めたことを示す史料として最も適切なものを、以下から選べ。 15

① これによりて京都の御沙汰、律令のおきて聊もあらたまるべきにあらざ

候也

② 田畠・山河以下の下地は中分せしめ、各一円の所務を致すべし

③ 諸国の守護人、殊に政務の器用を扱はるべき事

④ 早く政所下文の旨に任せて、所々の地頭職を領掌すべき事

(4) 江戸幕府は豊臣政権の施策を引き継ぎ、陸上交通網の整備を行なった。東海道をはじめとした主要街道は五街道と呼ばれ、 G によって監督された。水上交通が発達したのもこの時代である。菱垣廻船などが大坂から江戸へ様々な商品を運送し始めたほか、東廻り海運・西廻り海運のルートが整備され、江戸と大坂を中心とする海上交通網^(㉒)が完成した。

また京都の豪商である H は鴨川、富士川を整備し、高瀬川などを開削して水路を開いた。「天下の台所」といわれる大坂は、全国の物資の集散地として栄えた大商業都市であったが、とりわけ堂島の米市場は大名の蔵米などの米取引を一手に扱い、全国の米相場を左右した。このような全国市場の成立の背後には、貨幣経済の高度な発達があったことも見逃せない。^(㉓)

問13 空欄 G H に当てはまる語句の組み合わせとして最も適切なものを、以下から選べ。 16

- | G | H |
|--------|--------|
| ① 遠国奉行 | 今井宗久 |
| ② 道中奉行 | 角倉了以 |
| ③ 鎮西奉行 | 茶屋四郎次郎 |
| ④ 作事奉行 | 今井宗薫 |

問14 下線部(㉒)で経由する海峡として最も適切なものを、以下から選べ。 17

- ① 津軽海峡 ② 対馬海峡 ③ 鳴門海峡 ④ 関門海峡


問15 下線部(サ)を描いた図版として最も適切なものを、以下から選べ。

18

①




②



徳川美術館所蔵 © 徳川美術館イメージアーカイブ / DNPpartcom

③



④



問16 下線部(シ)に関する説明として最も適切なものを、以下から選べ。

19

- ① 金銀比価の相違により洋銀が海外に大量に流出した。
- ② 幕府が発行した金貨は秤量貨幣だった。
- ③ 諸藩・旗本領内では三貨だけでなく紙幣も流通した。
- ④ 銀座は江戸にのみ設置された。

(5) 文化・文政期を中心に栄えた文化を化政文化と呼ぶ。化政文化では三都の繁栄を背景として町人文化が最盛期を迎えた。常設の芝居小屋がにぎわい、多数の寄席が開かれるなど、都市の民衆を中心とする芸能がさかんになった。庶民の生活を描いた滑稽本も人気となったが、ヨーロッパの印象派画家に影響を与えた浮世絵もこの時代に流行した。

学問・思想の分野でも経世論が盛んになり、佐藤信淵が I を、 J が『稽古談』を執筆した。蘭学への関心も高まりを見せたが、幕府はこれを憂慮して蘭学の統制を行った。しかし実際には、方々につくられた私塾の中には蘭学を学ぶものがあり、その中でも緒方洪庵が大坂で始めた適々斎塾（適塾）は、福澤諭吉をはじめ優れた人材を輩出したことで知られている。



問17 空欄 I J に当てはまる語句として最も適切なものを、以下から選べ。

- | | | | |
|----|---|----------|-----------|
| 20 | I | ① 『都鄙問答』 | ② 『自然真営道』 |
| | | ③ 『農政本論』 | ④ 『夢の代』 |
| 21 | J | ① 富永仲基 | ② 三浦梅園 |
| | | ③ 海保青陵 | ④ 塙保己一 |

問18 下線部(ス)の代表作と作者の組み合わせとして最も適切なものを、以下から選べ。 22

- | 代表作 | 作者 |
|-------------|------|
| ① 『浮世風呂』 | 式亭三馬 |
| ② 『仕懸文庫』 | 恋川春町 |
| ③ 『本朝廿四孝』 | 近松半二 |
| ④ 『金々先生栄華夢』 | 山東京伝 |

問19 下線部(セ)を代表する人物として葛飾北斎がいる。その作品として最も適切なものを、以下から選べ。 23



問20 下線部(ソ)に関する史料の一部として最も適切なものを、以下から選べ。

24

- ① いかにも当世は、^{ぶへん}武辺と^{りちぎ}律儀は世の禁物なり
- ② さらばその書籍など、心なきものゝ手には多く渡り侍らぬやうにはすべ
きなり
- ③ ^{きつと}急度門人共異学相禁じ、^{なお}猶又、^{じもん}自門に限らず^{たもん}他門ニ申し合せ、^{こう}正学講
^{きゅういた}窮致し
- ④ ^{じこん}自今以後、かれうた渡海の儀、^{これ}之を^{ちようじ}停止せられ^{おわんぬ}訖

問21 下線部(タ)として最も適切なものを、以下から選べ。

25

- ① 咸宜園
- ② 日新館
- ③ 明義堂
- ④ 普賢堂

第2問 次の(1)~(4)を読んで、以下の問いに答えよ。

- (1) 旧幕府が結んだ不平等条約の改正、とくに関税自主権の回復は明治政府に^(ア)にとって重要な課題であった。

1871（明治4）年11月に横浜を出港した岩倉使節団は条約改正をめざし欧米の近代国家を訪問した。しかし改正には至ら^(イ)なかった。次いで、寺島宗則は、アメリカと交渉して関税自主権の回復の交渉にほぼ成功したが、Aなどの反対で無効となった。1888年、Bは大審院に外国人判事を登用することを条件に、Cの撤廃を国別に交渉したが、これも^(ウ)失敗した。関税自主権の回復は1911年にD外相のもとで達成された。

問1 空欄の A ~ D に当てはまる語句として最も適切なものを、以下から選べ。

- | | | | |
|----|---|-------------|------------|
| 26 | A | ① スペイン・ブラジル | ② フランス・インド |
| | | ③ インド・中国 | ④ イギリス・ドイツ |
| 27 | B | ① 大隈重信 | ② 山本権兵衛 |
| | | ③ 桂太郎 | ④ 浜口雄幸 |
| 28 | C | ① 公武合体 | ② 居留地 |
| | | ③ 領事裁判権 | ④ 異国船打払令 |
| 29 | D | ① 樺山資紀 | ② 児玉源太郎 |
| | | ③ 尾崎行雄 | ④ 小村寿太郎 |

問2 下線部(ア)の代表的な条約名とその条約の調印を断行した人物の組み合わせとして最も適切なものを、以下から選べ。 30

- | | 条約 | 人物 |
|---|----------|------|
| ① | 日米修好通商条約 | 三条実美 |
| ② | 日朝修好条規 | 井伊直弼 |
| ③ | 日米修好通商条約 | 井伊直弼 |
| ④ | 日朝修好条規 | 三条実美 |

問3 下線部(イ)に参加し、のちに女子英学塾を創設した人物として最も適切なものを、以下から選べ。 31

- ① 津田梅子 ② 永井繁子 ③ 山川捨松 ④ 大久保利通

問4 下線部(ウ)ののちの交渉の展開として最も適切なものを、以下から選べ。

32

- ① 岩倉使節団が再度欧米を訪問した。
② 井上馨外相がイギリスと改正交渉を開始したが、大津事件で辞任した。
③ 青木周蔵外相がヴェルサイユ条約の調印に成功した。
④ 陸奥宗光外相のもとで日英通商航海条約の調印に成功した。

(2) 明治政府は、東アジアをめぐる「満韓交換」をロシアと交渉したが、ロシアが拒絶したために、交渉は進展しなかった。そこで日本政府は、日本と同じくロシアを警戒するイギリスとの間に、1902（明治35）年、日英同盟協約を結び、ロシアとの戦争に備えた。日本国内では、キリスト教徒の E ^(エ) などが非戦論・反戦論をとなえ、国内世論も当初は戦争を好まなかった。しかし、東京帝国大学などの七博士が強硬な主戦論をとなえ、『国民新聞』の F が主戦論を盛り上げた。日本とロシアの両国はたがいに宣戦を布告し、日露戦争 ^(オ)が始まった。

開戦後、歌人の与謝野晶子は『明星』に反戦詩 ^(カ)を発表した。

問5 空欄の E F に当てはまる人物として最も適切なものを、以下から選べ。

- | | | | |
|----|---|--------|--------|
| 33 | E | ① 幸徳秋水 | ② 内村鑑三 |
| | | ③ 堺利彦 | ④ 吉野作造 |
| 34 | F | ① 黒岩涙香 | ② 徳富蘇峰 |
| | | ③ 戸水寛人 | ④ 片山潜 |

問6 下線部(エ)に関する説明として最も適切なものを、以下から選べ。 35

- ① 主力艦の保有比率を規定した。
- ② 清が日本に遼東半島，台湾，澎湖諸島の割譲することを認めさせた。
- ③ 清が日英両国に多額の賠償金を支払うことと，日英両国が北京公使館区地域に軍隊を駐留させることを認めさせた。
- ④ 清国・韓国における日英両国の利益を相互に尊重することを確認した。

問7 下線部(オ)の講和条約として最も適切なものを、以下から選べ。 36

- ① ポーツマス条約
- ② 下関条約
- ③ 日ソ中立条約
- ④ 樺太・千島交換条約

問8 下線部(カ)の一節として最も適切なものを、以下から選べ。 37

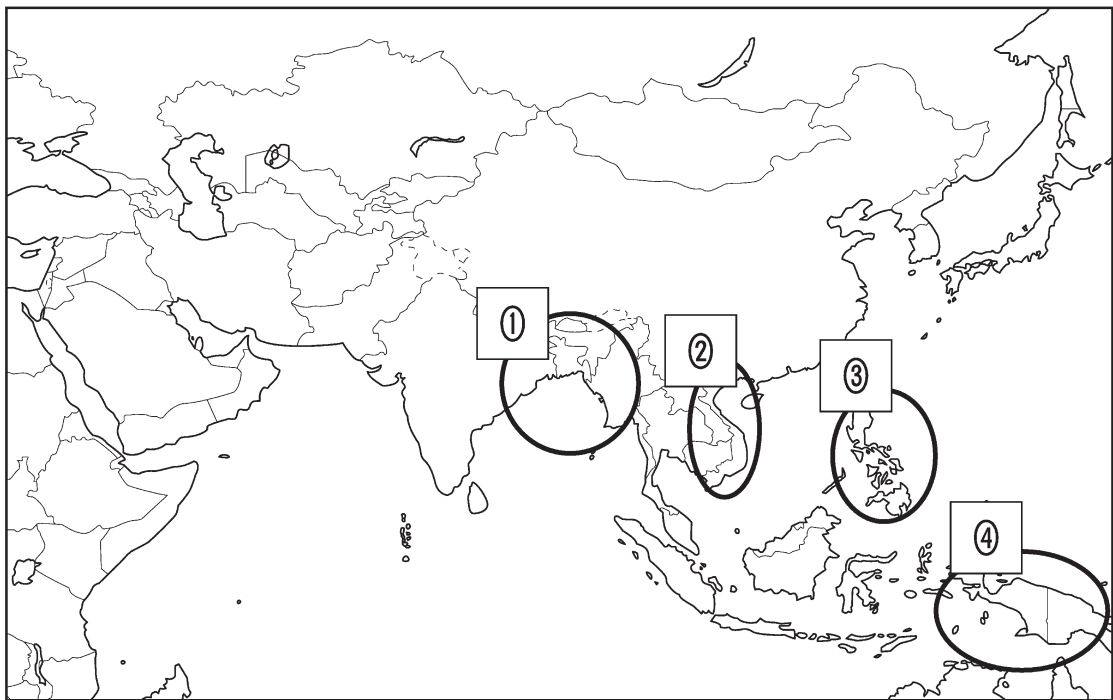
- ① 元始，女性は実に太陽であった
- ② 概して云へば日本国の歴史はなくして日本政府の歴史あるのみ
- ③ 末に生れし君なれば 親のなさはまさりしも
- ④ 小説の主脳は人情なり。世態風俗これに次ぐ

(3) 太平洋戦争にいたる歴史的な出来事のなかで， G の締結はアメリカの対日姿勢をこれまで以上に硬化させた出来事といえる。ドイツは，1941（昭和16）年6月，突如ソ連に侵攻し独ソ戦を開始した。日本はすでに決定していた南部仏印進駐を7月末に実行した。これに対し，アメリカは在米日本資産の凍結や対日輸出に制限を加えることを決定した。この状況を日本の軍部は (キ) ABCD 包囲陣 と呼び，日本を不当に圧迫していると国民に訴えた。日本はその (ク) の圧迫をはね返すには対米戦争も選択肢に入れざるをえないと考え， (コ) 帝国国策遂行要領 を決定した。12月8日には日本陸軍が英領マレー半島を奇襲した。また，日本海軍が H を奇襲し，太平洋戦争が開始された。

問9 空欄の G H に当てはまる語句として最も適切なものを、
以下から選べ。

- | | | | |
|----|---|-----------|--------------|
| 38 | G | ① 英仏露三国協商 | ② 独墺伊三国同盟 |
| | | ③ 日独伊三国同盟 | ④ 石井・ランシング協定 |
| 39 | H | ① オーストラリア | ② シベリア |
| | | ③ 南京 | ④ 真珠湾 |

問10 下線部(キ)は地図中のどの地域に含まれるのか、最も適切なものを、以下から選べ。 40



問11 下線部(ク)の対象になったものとして最も適切なものを、以下から選べ。

- | | | | |
|------|-----|------|--------|
| | | 41 | |
| ① 木材 | ② 米 | ③ 石油 | ④ 希少金属 |

問14 空欄の I ～ M に当てはまる語句として最も適切なものを、
以下から選べ。

- | | | | |
|----|---|-------------|------------|
| 44 | I | ① 大衆文化 | ② 大正デモクラシー |
| | | ③ 戯作文学 | ④ プロレタリア文学 |
| 45 | J | ① 火野葦平 | ② 大岡昇平 |
| | | ③ 野間宏 | ④ 坂口安吾 |
| 46 | K | ① 『生きてゐる兵隊』 | ② 『夜明け前』 |
| | | ③ 『細雪』 | ④ 『村の家』 |
| 47 | L | ① 生理学・医学 | ② 化学 |
| | | ③ 物理学 | ④ 経済学 |
| 48 | M | ① 大島渚 | ② 小津安二郎 |
| | | ③ 溝口健二 | ④ 黒澤明 |

問15 下線部(サ)の代表作品として最も適切なものを、以下から選べ。 49

- | | |
|-----------|----------|
| ① 『鼻』 | ② 『暗夜行路』 |
| ③ 『伊豆の踊子』 | ④ 『大菩薩峠』 |

問16 下線部(シ)のきっかけとなった出来事として最も適切なものを、以下から選
べ。 50

- | | |
|------------|--------------|
| ① 日比谷焼打ち事件 | ② 金閣寺放火事件 |
| ③ 廃仏毀釈 | ④ 法隆寺金堂壁画の焼損 |