

D 5-1

氏名		受験番号	
----	--	------	--

I

問 1
(1)




図 1 水の蒸気圧




図 2 標準大気の高さと気圧の関係

総合計	
-----	--

I 採点欄	問 1 (1) 小計

総合問題 2 学校教育課程 (解答用紙)

D 5-2

氏名		受験 番号	
----	--	----------	--

I

問 1
(2)

（考え方）																					
																			答（		）℃

(3)

(4)

（考え方）																					
																			答（		）倍

I 採点欄	問 1 (2)	問 1 (3)	問 1 (4)	小 計

総合問題 2 学校教育課程 (解答用紙)

D 5-3

氏名		受験番号	
----	--	------	--

I

問 2

(1)

%

(2)

(計算式)	
答 ()g	

(3)

I 採点欄	問 2 (1)	問 2 (2)	問 2 (3)	小計

見本

D 5-4

総合問題 2 学校教育課程 (解答用紙)

氏名		受験番号	
----	--	------	--

II

問 1

生理現象：

周期：

問 2

問 3

問 4

	問 1	問 2	問 3	問 4	小計
II 採点欄					

総合問題 2 学校教育課程 (解答用紙)

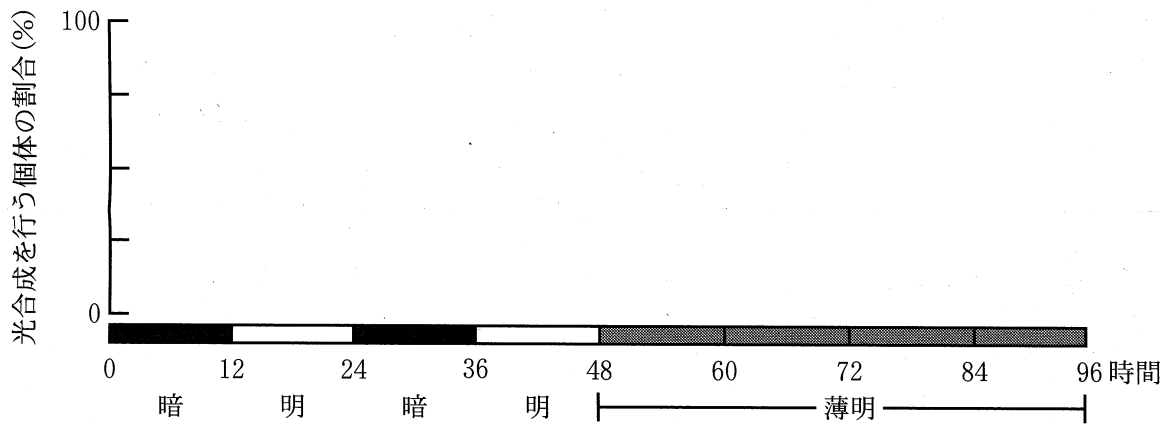
D 5-5

氏名		受験番号	
----	--	------	--

II

問 5

問 6



II	問 5	問 6	小 計
採点欄			

D 5-6

総合問題 2 学校教育課程 (解答用紙)

氏名		受験番号	
----	--	------	--

II

問 7

(1) 結果 1 からわかること

(2) 結果 2 からわかること

(3) 結果 1 と結果 2 の比較からわかること

問 8

外的環境の大きな変化：
外的環境の多少の変化：

II 採点欄	問 7	問 8	小 計