

# 地理歴史

## (世界史)

(2023)


- (注意事項)
- 1 問題文は21ページあります。
  - 2 解答は解答用紙の所定欄に記入してください。下書きは、問題冊子の余白を利用してください。ただし、回収はしませんので採点の対象とはなりません。
  - 3 解答はすべてマークセンス方式となっていますので、解答用紙の注意事項をよく読み解答してください。
  - 4 受験番号・氏名・フリガナは、監督者の指示に従って、解答用紙の所定欄に丁寧に記入してください。
  - 5 解答用紙にマークセンス方式の受験番号欄があります。受験番号をマークする際は濃く丁寧にぬってください。
  - 6 試験中に問題冊子の印刷不鮮明、ページ落丁・乱丁及び解答用紙の汚れ等に気づいた場合は、手を挙げて監督者に知らせてください。

I 次のA～Eの図版を見て、それに続く問1～10に答えよ。

A



B




C



D



E



A～D：ユニフォトプレス提供

E：AP/アフロ

編集の都合上、類似の写真と差し替えています。

問1 Aは古代アテネで実施された投票の際に用いられた。この用具を用いた投票が制度として導入されることとなった直接的な背景または理由としてもっとも適切なものを次の①～⑤からひとつ選び、その番号をマークせよ。

1

- ① 重装歩兵密集戦術の成立
- ② 僭主の出現
- ③ ペルシア戦争での勝利
- ④ ペロポネソス戦争での敗北
- ⑤ デロス同盟の結成

問2 Aを投票用具とするこの制度の名称を次の①～⑤からひとつ選び、その番号をマークせよ。

2

- ① オストラキスモス
- ② シノイクスモス
- ③ デマゴーゴス
- ④ デモクラティア
- ⑤ ファランクス

問3 Bはペルー南部アンデス山頂部に残る遺跡である。この遺跡を残した国の都を次の①～⑤からひとつ選び、その番号をマークせよ。

3

- ① クスコ
- ② テオティワカン
- ③ テノチティトラン
- ④ ナスカ
- ⑤ マチュ=ピチュ

問4 Bの遺跡を残した国を滅亡させた人物を次の①～⑤からひとつ選び、その番号をマークせよ。

4

- ① アタワルパ
- ② コルテス
- ③ バルボア
- ④ ピサロ
- ⑤ ラス=カサス

問5 Cの石碑が建てられた都市の現在名を次の①～⑤からひとつ選び、その番号をマークせよ。

5

- ① 杭州
- ② 西安
- ③ 南京
- ④ 武漢
- ⑤ 北京

問6 Cの石碑に関連する人物としてもっとも適切なものを次の①～⑤からひとつ選び、その番号をマークせよ。

6

- ① アタナシウス
- ② エウセビオス
- ③ ゴロアスター
- ④ ネストリウス
- ⑤ マニ

問7 Dの大理石彫像は16世紀初頭に制作され、フィレンツェ市内に設置された。この像の作者を次の①～⑤からひとつ選び、その番号をマークせよ。

7

- ① ドナテルロ
- ② ブルネレスキ
- ③ ミケランジェロ
- ④ ラファエロ
- ⑤ レオナルド=ダ=ヴィンチ

問8 Dの大理石彫像と同じ作者の作品としてもっとも適切なものを次の①～⑤からひとつ選び、その番号をマークせよ。

8

- ① 『ヴィーナスの誕生』（ウフィッツィ美術館）
- ② 『落穂拾い』（オルセー美術館）
- ③ 『最後の審判』（システィナ礼拝堂）
- ④ 『最後の晩餐』（サンタ=マリア=デッレ=グラッツィエ教会）
- ⑤ 『夜警』（アムステルダム国立美術館）

問9 Eの写真は1989年12月に撮影された。この会談で宣言されたこととしてもっとも適切なものを次の①～⑤からひとつ選び、その番号をマークせよ。

9

- ① 宇宙空間での戦略防衛構想
- ② 世界貿易機関の発足
- ③ 独立国家共同体の結成
- ④ 変動相場制への移行
- ⑤ 冷戦の終結

問10 Eの写真は地中海のある島の沖合に停泊中の客船内で撮影された。この島の名を次の①  
～⑤からひとつ選び、その番号をマークせよ。

10

- ① キプロス
- ② クレタ
- ③ シチリア
- ④ マルタ
- ⑤ ロドス

II ユダヤ教，キリスト教，イスラーム教の形成・発展とそれらを巡る諸国・諸集団の政治史を中心とする次のA～Dの文章を読み，それに続く問1～12に答えよ。

A ユダヤ教もキリスト教もイスラーム教も，広い意味では預言者の宗教といわれている。預言者とは啓示された神の言葉を預かる者という意味であり，その多かれ少なかれ善悪二元論的な考え方ゆえに，三者は歴史上様々な形で衝突する場面を繰り返してきた。ユダヤ教では，唯一神がイスラエルの民と契約し，預言者を通して，神の教えを授けたと考えられている。<sup>(1)</sup>一方，キリスト教はユダヤ教から派生して，1世紀にローマの支配下のパレスチナで生まれた。ナザレのイエスは，神の愛がすべての人びとに及ぶこと，神の国の到来が近いことを説いたのであった。<sup>(2)</sup>遅れて7世紀に誕生したイスラーム教は，唯一神（アッラー）の啓示を受けたとするムハンマドを開祖とした。<sup>(3)</sup>

B ヨーロッパ世界とイスラーム世界は中世以降，幾度も軍事的に衝突した。最初の大きな衝突はトゥール・ポワティエ間の戦いであり，西ヨーロッパのフランク王国と，イベリア半島に進出して西ゴート王国を滅ぼして勢力を増した  朝の「アラブ帝国」との間で起こった。 朝はこの戦いでやぶれ，ピレネー山脈の南に退いた。イベリア半島ではその後，約800年にわたって国土回復運動（レコンキスタ）の戦いが続けられ，12世紀までに半島の北半分がキリスト教圏に入った。<sup>(4)</sup>一方，11世紀には聖地エルサレムを支配下においたイスラーム勢力はビザンツ帝国をも脅かしたので，ビザンツ皇帝はローマ教皇に救援を要請した。教皇  は，1095年に  宗教会議（教会会議）を招集して，聖地回復の聖戦を起こすことを提唱した。<sup>(5)</sup>

C 14世紀初め頃にトルコ系遊牧民を中心とする集団がおこしたオスマン帝国は16世紀に最盛期を迎えるが，その勢力の拡大は同時にキリスト教世界とのぶつかり合いを意味した。<sup>(6)</sup>スレイマン1世の治下，オスマン帝国はハンガリーを征服してウィーンに迫り，地中海ではプレヴェザの海戦でスペイン・ヴェネツィア連合艦隊をやぶった。<sup>(7)</sup>スレイマン1世の死後，オスマン軍はレパントの海戦にやぶれたが，翌年には艦隊が再建され，16世紀末まで，オスマン帝国の地中海での優位が揺らぐことはなかった。<sup>(8)</sup>

D 古代以来ユダヤ人は，諸都市間の交易ネットワークの形成に寄与した側面も否定できないものの，キリストを批判し死に追いやった民族という聖書の理解に基づき，ヨーロッパでは長い間差別の対象となった。18世紀のいわゆる寛容の時代や市民革命などを経て，たしかにキリスト教世界においてもかれらは少しずつ解放されていったとはいえ，差別はすぐにはなくならなかった。<sup>(9)</sup>そして第二次世界大戦期には，ナチス=ドイツによる大がかりなユダヤ人

排斥の悲劇を経験したのである。第二次世界大戦後の1947年、国連総会は、委任統治領の終了とともに、パレスチナをユダヤ・アラブ両国家に分割することをパレスチナ住民の合意なしに決定し、翌年ユダヤ人はイスラエルの建国を一方的に宣言した。それ以後、この地では4次に及ぶ中東戦争が起こった。<sup>(10)</sup>

問1 Aの文中の下線部(1)に関連する次の記述のうち、もっとも適切なものを①～④からひとつ選び、その番号をマークせよ。

11

- ① モーセはユダヤ教の唯一神である。
- ② ヤハウエはユダヤ教の預言者である。
- ③ バビロン捕囚によって、ユダヤ人は故地を離れて地中海各地に散らばった。
- ④ ユダヤ教の聖典は『旧約聖書』とよばれる。

問2 下線部(2)に関連する次の記述のうち、もっとも適切なものを①～④からひとつ選び、その番号をマークせよ。

12

- ① イエスははじめて選民思想の観念を唱えた。
- ② イエスはユダヤ教の律法主義と祭司たちの墮落を批判した。
- ③ イエスは使徒ペテロやパウロらと『新約聖書』を編纂した。
- ④ イエスの教えは、のちに父たる神と子たるイエスを同一とするアリウス派に引き継がれた。

問3 下線部(3)に関連して、イスラーム教が誕生する前の事柄としてもっとも適切なものを次の①～④からひとつ選び、その番号をマークせよ。

13

- ① サファヴィー朝の成立
- ② ノルマンディー公国の成立
- ③ ヴァンダル王国の成立
- ④ キエフ公国の成立



問4 Bの文中の  に入る語を次の①～⑥からひとつ選び、その番号をマークせよ。

- ① ウマイヤ
- ② ファーティマ
- ③ セルジューク
- ④ アイユーブ
- ⑤ マムルーク
- ⑥ アッバース

問5 下線部(4)に関連する次の記述のうち、もっとも適切なものを①～④からひとつ選び、その番号をマークせよ。

- ①  朝はジズヤ（地租）やハラージュ（人頭税）と引き換えに被征服民を保護した。
- ②  朝のアブー＝バクルはカリフ（ハリーフ）の称号を与えられた。
- ③  朝を開いたのはムアーウィヤであった。
- ④  朝のイスラーム教徒の多数派はシーア派であった。

問6 下線部(5)に関連して、12世紀半ばまでに成立していたイベリア半島の王国名として誤っているものを次の①～④からひとつ選び、その番号をマークせよ。

- ① カスティリヤ
- ② スペイン（イスパニア）
- ③ アラゴン
- ④ ポルトガル

問7 文中の  と  に入る語の組み合わせを、次の①～④からひとつ選び、その番号をマークせよ。

- ① b：グレゴリウス7世                      c：コンスタンツ
- ② b：ウルバヌス2世                      c：クレルモン
- ③ b：インノケンティウス3世              c：ニケーア
- ④ b：レオ10世                              c：トリエント



問8 Cの文中の下線部(6)に関連して、14～15世紀にオスマン帝国が関わった戦争ではないものを次の①～④からひとつ選び、その番号をマークせよ。

18

- ① アンカラの戦い
- ② コソヴォの戦い
- ③ ワールシュタットの戦い
- ④ ニコポリスの戦い

問9 下線部(7)に関連して、このときの神聖ローマ帝国皇帝を次の①～④からひとつ選び、その番号をマークせよ。

19

- ① カール5世
- ② フェリペ2世
- ③ ヨーゼフ2世
- ④ フリードリヒ2世

問10 下線部(8)に関連して、次の記述のうち、16世紀における地中海世界をめぐる状況としてもっとも適切なものを①～④からひとつ選び、その番号をマークせよ。

20

- ① はじめてスルタンの称号を与えられたメフメト2世は、コンスタンティノープルを攻略して、ビザンツ帝国を滅ぼした。
- ② エジプトのアレクサンドリアに作られたムセイオンで自然科学や人文科学が研究され、ヨーロッパのルネサンスに影響を与えた。
- ③ オスマン帝国に編入されたバルカン半島諸地域では、デヴシルメとよばれる非ムスリムの宗教共同体に対して自治が認められ、イスラーム教徒との共存が図られた。
- ④ オスマン帝国は、通商を活発にする意図から、主にヨーロッパの商人に対してカピチュレーションという通商特権を恩恵的に与えた。

問11 Dの文中の下線部(9)に関連して、次の事柄のうち19世紀のユダヤ人をめぐる動きとしてもっとも適切なものを①～④からひとつ選び、その番号をマークせよ。

21

- ① ブーランジェ事件
- ② サイクス・ピコ協定
- ③ ドレフュス事件
- ④ フセイン（フサイン）・マクマホン協定

問12 下線部(10)に関連して、これらの戦争に関する次の記述のうち、誤っているものを①～④からひとつ選び、その番号をマークせよ。

22

- ① 第1次中東戦争（パレスチナ戦争）は、建国したばかりのイスラエルと、パレスチナ難民との間で戦われた。
- ② 第2次中東戦争は、エジプトによるスエズ運河の国有化に反発して、イギリスとフランスがイスラエルとともにエジプトに侵攻したことから始まった。
- ③ 第3次中東戦争の結果、イスラエルはエジプトのシナイ半島とスエズ運河東岸、ゴラン高原、ヨルダン川西岸、ガザ地区を占領した。
- ④ 第4次中東戦争の開戦後、石油価格が大幅に引き上げられて、第1次石油危機が起こった。

Ⅲ 次のAとBの文章を読み、それに続く問1～10に答えよ。

A 古代オリエントの4国分立期に小アジアにあった国で、世界史上初の貴金属貨幣が<sup>(1)</sup>つくられた。その後が続いたギリシア・ローマでも金貨や銀貨は盛んにつくられ、地中海一帯は貨幣経済に裏打ちされた商業圏となった。中世に入ると、西ヨーロッパでは貨幣経済は衰えたが、東ヨーロッパでは<sup>(2)</sup>ビザンツ帝国が貨幣の発行を継続し、首都コンスタンティノープルを中心に活発な経済活動が続いた。いっぽう、イスラーム化した西アジアでも、金貨や銀貨が流通する経済活動は盛んに行われた。征服された地域では現物および貨幣での租税徴収が実施され、<sup>(3)</sup>国庫に入った貨幣は軍人や官僚に俸給として支払われた。しかし、9世紀半ば以降はこうした仕組みに限界があらわれ始め、俸給の支給も滞るようになった。10世紀半ばにバグダードに入城して政治的実権をカリフから奪ったブワイフ朝の君主は、土地の徴税権を軍人に与えて地元民から直接徴税させる仕組みをとるようになり、<sup>(4)</sup><sup>(5)</sup>この仕組みはその後のイスラーム世界でも基本的に継承された。

B 16世紀末にフランスに成立したのがブルボン朝で、創設者は  であった。この王朝のもとでフランスは絶対王政を現出したが、その絶頂期を体現したのが太陽王ルイ14世であった。彼は幼少で即位し当初は太后アンヌや摂政マザランに支えられ、親政を始めてからは絶対王政の名にふさわしい強大な権力をほし<sup>(6)</sup>いままにした。彼は  を財務総監に任じて重商主義政策を展開させながら、その生涯のほとんどを周囲の国々との戦争に費やした。また、ナントの王令を廃止して商工業者の多いユグノーが大量に他国に亡命するなど、その晩年にはフランスの力にも陰りが見えてきた。

18世紀の後半に入ると、この陰りはただ事ではなくなった。合理主義に基づく啓蒙思想が明らかにしたのは、いまやもっとも「遅れた」政治・社会体制であるアンシャン=レジームの非合理性であった。特に『社会契約論』などを著したジュネーヴ生まれの思想家  が示した「小生産者の共和国」の展望は、書物はもちろんのこと、貴族の夫人らが開くサロンや街中のカフェでの議論を通じて知識人の間に深く浸透し、その後のフランス革命に多大な影響を与えた。こうした思想的変革が起こっているなか、莫大な経常支出<sup>(7)</sup>やいわゆる第二次英仏百年戦争の展開はフランス国家財政を破綻に追いやり、特権身分への課税を含む財政改革を進めるために、三部会が招集されることになった。革命でその特権を失う貴族が、革命の火ぶたを切って落とすことになったのである。

問1 Aの文中の下線部(1)の国の名を次の①～④からひとつ選び、その番号をマークせよ。

23

- ① アッシリア
- ② メディア
- ③ リディア
- ④ 新バビロニア

問2 下線部(2)に関する次の記述のうち、正しくないものを①～⑤からひとつ選び、その番号をマークせよ。

24

- ① コンスタンティヌス帝がローマ帝国を395年に東西に分割したことで始まり、東ローマ帝国とも呼ばれた。
- ② この国の皇帝は、ギリシア正教会を支配する立場にあり、政治と宗教両面における最高の権力者であった。
- ③ 7世紀には公用語がラテン語からギリシア語になり、ギリシア文化を西ヨーロッパに伝える役割を果たした。
- ④ 13世紀前半には第4回十字軍が首都を奪ってラテン帝国を建てると、国内が混乱した。
- ⑤ 美術・建築においては、首都のハギア=ソフィア大聖堂のように円屋根とモザイク画を特徴とするビザンツ様式が生まれた。

問3 下線部(3)で築かれた軍営都市の名称を次の①～⑤からひとつ選び、その番号をマークせよ。

25

- ① ウンマ
- ② キャラヴァンサライ
- ③ スーク
- ④ ミスル
- ⑤ ワクフ

問4 下線部(4)がこの時に得た称号を次の①～⑤からひとつ選び、その番号をマークせよ。

26

- ① ウラマー
- ② スーフィー
- ③ スルタン
- ④ ワズィール
- ⑤ 大アミール

問5 下線部(5)の仕組みを次の①～⑤からひとつ選び、その番号をマークせよ。

27

- ① アター制
- ② イクター制
- ③ ザミンダーリー制
- ④ テマ制
- ⑤ プロノイア制

問6 Bの文中の  に入る王を次の①～⑥からひとつ選び、その番号をマークせよ。

28

- ① アンリ3世
- ② アンリ4世
- ③ シャルル8世
- ④ シャルル9世
- ⑤ ルイ9世
- ⑥ ルイ13世

問7 下線部(6)に関して、この体制を支える政治理論を主張してルイ14世に仕えた側近の聖職者を次の①～⑤からひとつ選び、その番号をマークせよ。

29

- ① デイドロ
- ② デカルト
- ③ ボーダン
- ④ ボシュエ
- ⑤ モンテスキュー

問8 文中の  に入る人物を次の①～⑥からひとつ選び、その番号をマークせよ。

- ① ケネー
- ② コルベール
- ③ デフォー
- ④ テュルゴー
- ⑤ ネットケル
- ⑥ モリエール

問9 文中の  に入る人物を次の①～⑥からひとつ選び、その番号をマークせよ。

- ① ヴォルテール
- ② カント
- ③ スピノザ
- ④ ダランベール
- ⑤ デカルト
- ⑥ ルソー

問10 下線部(7)に関して、最終的にフランスの財政破綻をもたらした戦争を次の①～⑥からひとつ選び、その番号をマークせよ。

- ① アメリカ独立戦争
- ② オーストリア継承戦争
- ③ オランダ戦争
- ④ スペイン継承戦争
- ⑤ ファルツ戦争
- ⑥ 七年戦争

IV 次の文章を読み、それに続く下の問1～10に答えよ。

1914年6月28日、の州都サライエヴォを訪問中のオーストリア帝位継承者夫妻が暗殺された。この事件を機に始まった戦争は、「すぐに決着がつくだろう」というおおかたの予想を裏切り、世界史上初の長期にわたる総力戦と化した。主戦場はヨーロッパだったが世界に波及し、後に第一次世界大戦<sup>(1)</sup>と呼ばれるようになった。

第一次世界大戦に際し、日本は日英同盟<sup>(2)</sup>を根拠にドイツに宣戦し、ドイツの租借地やドイツ領南洋諸島を占領した。さらに1915年には中華民国に対して二十一か条の要求<sup>(3)</sup>をおこない、政権の抵抗を押し切って多くを認めさせた。1917年には中華民国もドイツ・オーストリアに宣戦し、ロシア革命に際しては日本と軍事協定を結んで、他国とともに対ソ干渉戦争<sup>(5)</sup>の一環としてシベリア出兵をおこなった。

第一次世界大戦の終結後<sup>(6)</sup>、1919年に開かれたパリ講和会議で、中華民国は戦勝国として二十一か条の要求の取り消しなどを提訴したが、列国によって退けられた。これに抗議する北京の学生を中心とするデモがおこなわれ、上海などでは労働者のストライキも発生した。これは運動と呼ばれる。

また、日本に併合されていた朝鮮でもロシア革命や民族自決の提唱を受け、1919年にソウルのパゴダ公園で「独立宣言書」が朗読され、大規模なデモが朝鮮全土および中国東北部や沿海州地域にまで広がった。

問1 文中のに入る地名を次の①～⑥からひとつ選び、その番号をマークせよ。

33

- ① クロアチア
- ② セルビア
- ③ ハンガリー
- ④ ボスニア
- ⑤ モンテネグロ
- ⑥ ルーマニア



問2 下線部(1)に関する次の記述のうち、誤っているものを①～④からひとつ選び、その番号をマークせよ。

34

- ① サライェヴォ事件の1か月後にオーストリアがセルビアに宣戦布告したことが、この戦争の開始のきっかけとなった。
- ② オーストリアを支援するドイツが永世中立国スイスに侵入したことを理由にイギリスがドイツに宣戦し、戦争の規模が拡大した。
- ③ 三国同盟の一員であったイタリアは「未回収のイタリア」返還の約束を取り付けて、協商国側にたって参戦した。
- ④ 最終的にドイツやオーストリアなどの同盟国側には、オスマン帝国やブルガリアも加わった。

問3 下線部(2)に関する次の記述のうち、もっとも適切なものを①～④からひとつ選び、その番号をマークせよ。

35

- ① イギリスと日本が中国と韓国における互いの利権を認め合って、結んだ条約である。
- ② イギリスはこの条約の締結と日露戦争の後、バルカン半島での緊張が高まったため、英露協商を破棄した。
- ③ イギリスはドイツに対抗するためにこの条約を締結し、それまでの「光栄ある孤立政策」を転換した。
- ④ 1921年に開かれたワシントン会議で、ワシントン海軍軍縮条約が締結され、その中でこの同盟の終了が宣言された。

問4 下線部(3)に関する次の記述のうち、誤っているものを①～④からひとつ選び、その番号をマークせよ。

36

- ① この要求には、山東省のドイツ権益の日本への譲渡が含まれていた。
- ② この要求には、日露戦争で得た旅順・大連の租借期限や南満州鉄道の返還期限の延長が含まれていた。
- ③ この要求には、中国政府へ日本人顧問を雇用することが含まれていた。
- ④ この要求をきっかけに中国内での排日運動が高まり、北京政府への結束が強まった。

問5 文中の  に入る人物を次の①～⑥からひとつ選び、その番号をマークせよ。

- ① 袁世凱
- ② 宣統帝
- ③ 曾國藩
- ④ 孫文
- ⑤ 陳独秀
- ⑥ 梁啓超

問6 下線部(4)に関する次の記述のうち、もっとも適切なものを①～④からひとつ選び、その番号をマークせよ。

- ① 三月革命後、立憲民主党のケレンスキー首相は戦争を続行したため、ボリシェヴィキと社会民主党の左派が武装蜂起した。
- ② 1922年12月に、ロシア・ベラルーシ（白ロシア）・ザカフカースの3ソヴィエト共和国で構成するソヴィエト社会主義共和国連邦の成立が宣言された。
- ③ 全ロシア=ソヴィエト会議は、戦争の即時停止と無併合・無賠償・民族自決の原則に基づく講和交渉の即時開始を訴える「平和に関する布告」を採択した。
- ④ レーニン率いるソヴィエト政府は、アメリカの参戦で不利な状況に追い込まれたドイツとローザンヌ条約を結んだ。

問7 下線部(5)の時期に関する次の記述のうち、もっとも適切なものを①～④からひとつ選び、その番号をマークせよ。

- ① 旧帝政派の軍人やボリシェヴィキに反対する政党は各地に反革命政権を樹立したが、連合国はこれらの政権を援助することはなかった。
- ② ソヴィエト政府は白軍を組織し、新経済政策（ネップ）を実施して穀物の強制徴発や企業の国有化などの措置を取り、反革命運動を取り締まった。
- ③ 対ソ干渉戦争が続くなか、ソヴィエト政権は国際共産主義運動の中心組織としてコミンフォルムを結成した。
- ④ 日本は勢力拡大も意図していたため、他国の撤兵後も派兵を長期化させたが、内外の批判を浴びて、1922年に撤兵した。

問8 下線部(6)に関する次の記述のうち、もっとも適切なものを①～④からひとつ選び、その番号をマークせよ。

40

- ① ヴェルサイユ条約はドイツに戦争責任を負わせ、海外植民地の放棄、アルザス・ローレーヌのフランスへの返還などを課したが、賠償金の支払いは求めなかった。
- ② オーストリアとはサン＝ジェルマン条約、ブルガリアとはヌイイ条約、ハンガリーとはトリアノン条約、オスマン帝国とはセーヴル条約が締結された。
- ③ 会議の進行を支配したのは5大国で、とりわけロイド＝ジョージ英首相、ウィルソン米大統領、ポワンカレ仏首相の発言力が大きかった。
- ④ 国際連盟のもとで、集団安全保障の原理が採用され、連盟規約を無視して戦争を起こした国には、経済制裁に加えて軍事出動も可能になった。

問9 文中の  に入る語を次の①～⑥からひとつ選び、その番号をマークせよ。

41

- ① 二・二八
- ② 三・一
- ③ 三・三〇
- ④ 五・四
- ⑤ 五・三〇
- ⑥ 六・四

問10 下線部(7)に関する次のア～ウの正誤の組み合わせとしてもっとも適切なものを下の①～⑤からひとつ選び、その番号をマークせよ。

42

ア：初代韓国統監の伊藤博文は、旅順駅で安重根に暗殺された。

イ：1919年4月には、大韓民国臨時政府が香港で樹立された。

ウ：大院君はハーグの万国平和会議に密使をおくったが、受け入れられなかった。

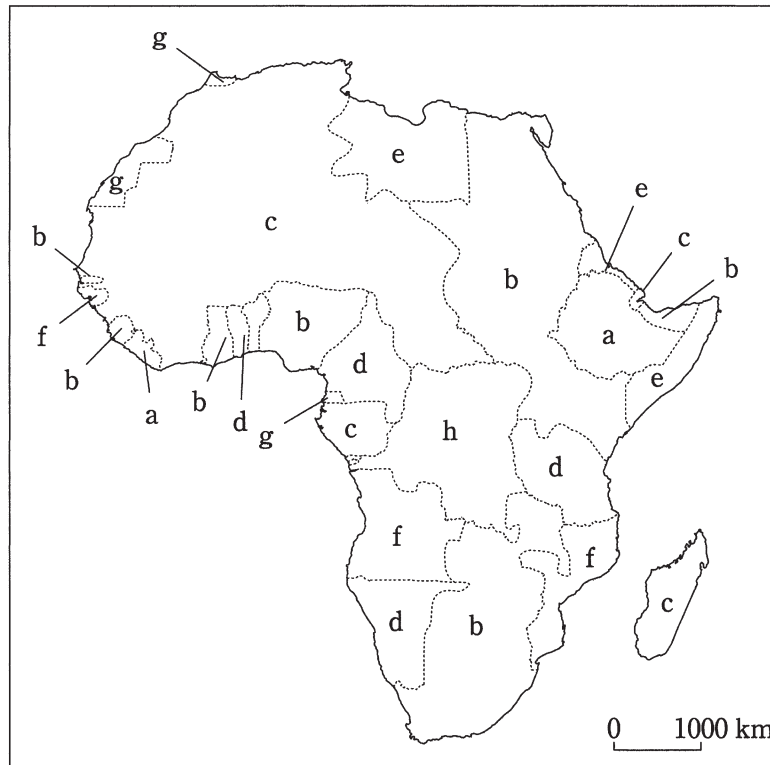
- ① すべて正しい。
- ② アのみ正しい。
- ③ イのみ正しい。
- ④ ウのみ正しい。
- ⑤ すべて誤っている。

V アフリカの現代史に関する次の問1～8に答えよ。

問1 ヨーロッパ列強によって分割されたアフリカ（20世紀初め）を示す下の地図上のa～hのうち、ベルギー領であった植民地を次の①～⑧からひとつ選び、その番号をマークせよ。

43

図 アフリカにおける列強の植民地（20世紀初め）



- ① a
- ② b
- ③ c
- ④ d
- ⑤ e
- ⑥ f
- ⑦ g
- ⑧ h

問2 問1で用いた地図上のa～hのうち、1880年代にドイツ領となった植民地を次の①～⑧からひとつ選び、その番号をマークせよ。

44

- ① a
- ② b
- ③ c
- ④ d
- ⑤ e
- ⑥ f
- ⑦ g
- ⑧ h

問3 問1で用いた地図上のa～hのうち、19世紀末に独立していた国を次の①～⑧からひとつ選び、その番号をマークせよ。

45

- ① a
- ② b
- ③ c
- ④ d
- ⑤ e
- ⑥ f
- ⑦ g
- ⑧ h

問4 19世紀末にアフリカを巡って起きたことに関する次のア、イの正誤の組み合わせとして  
もっとも適切なものを下の①～④からひとつ選び、その番号をマークせよ。 46

ア：リビアでは、イスラームの宗教指導者ムハンマド＝アフマドが率いるマフディー派の  
抵抗が繰り広げられたが、宗主国イタリアから派遣された軍によって制圧された。

イ：アフリカにおいて縦断政策をとるフランスと横断政策をとるイギリスの軍が対峙する  
ファショダ事件が1898年に起こったが、フランス側が譲歩して撤退したため、大事には  
至らなかった。

- ① アもイも正しい。
- ② アのみ正しい。
- ③ イのみ正しい。
- ④ アもイも誤っている。

問5 1955年にアジア＝アフリカ会議が開催された都市を次の①～⑤からひとつ選び、その番  
号をマークせよ。 47

- ① カイロ
- ② ケープタウン
- ③ バンドン
- ④ ジャカルタ
- ⑤ バグダード

問6 1950年代にエンクルマ（ンクルマ）を指導者として独立を果たした国を次の①～⑤から  
ひとつ選び、その番号をマークせよ。 48

- ① モロッコ
- ② ガーナ
- ③ ナミビア
- ④ ナイジェリア
- ⑤ カメルーン

問7 激しい反フランス抵抗運動と戦闘の末、1962年に独立した北アフリカの国を次の①～⑤からひとつ選び、その番号をマークせよ。

49

- ① アルジェリア
- ② スーダン
- ③ チュニジア
- ④ モザンビーク
- ⑤ アンゴラ

問8 アパルトヘイト（人種隔離政策）に関する次の記述のうち、もっとも適切なものを①～④からひとつ選び、その番号をマークせよ。

50

- ① 1910年にイギリスから独立した南アフリカ共和国は、アパルトヘイトを実施した。
- ② イギリス支配下の南ローデシアでは1965年に黒人多数派が独立を宣言したものの、その後1980年にジンバブエが成立すると、白人政権がアパルトヘイトを復活させた。
- ③ 南アフリカ共和国では1991年にアパルトヘイト関連諸法が廃止され、1994年に行われた全人種の参加による選挙の結果、マンデラが黒人として最初の大統領に選出された。
- ④ 南アフリカ共和国では、アパルトヘイト反対運動の先頭に立ってきた民族解放戦線（FLN）が1990年に合法化され、その指導者ナギブが釈放された。