

地理歴史

(日本史)

(2023)

- (注意事項)
- 1 問題文は27ページあります。
 - 2 解答は解答用紙の所定欄に記入してください。下書きは、問題冊子の余白を利用してください。ただし、回収はしませんので採点の対象とはなりません。
 - 3 解答はすべてマークセンス方式となっていますので、解答用紙の注意事項をよく読み解答してください。
 - 4 受験番号・氏名・フリガナは、監督者の指示に従って、解答用紙の所定欄に丁寧に記入してください。
 - 5 解答用紙にマークセンス方式の受験番号欄があります。受験番号をマークする際は濃く丁寧にぬってください。
 - 6 試験中に問題冊子の印刷不鮮明、ページ落丁・乱丁及び解答用紙の汚れ等に気づいた場合は、手を挙げて監督者に知らせてください。

I 日本の法・統治システムの歴史に関する以下のA～Cの文章を読み、問1～問15に対する答えを選択肢より一つずつ選び、その番号を解答用紙の所定の欄にマークせよ。

A

5世紀後半から6世紀にかけて、ヤマト政権は、関東地方から九州中部におよぶ地方豪族を含み込んだ支配体制を形成していった。7世紀には、王権のもとに中央行政機構・地方組織の編成が進められた。7世紀中頃以降になると、律令制にいたる中央集権的国家体制が形成されるようになった。

大宝律令は、唐の律令にならないながら、701年に完成した法である。律は今日の刑法に当たり、令には行政組織・官吏の勤務規定や人民の租税・労役規定などがおかれた。こうして8世紀には、律令にもとづく国家体制が確立された。そして、律令制定後も、社会の変化に応じて法令が出され、令外官と呼ばれる、令に定められていない新しい官職がおかれた。

鎌倉時代には、律令の系譜をひいた公家法とは異なる武家独自の法が制定された。1232年に制定された御成敗式目（貞永式目）は、源頼朝以来の先例や武士社会での習慣・道德にもとづいて、御家人同士や御家人と荘園領主とのあいだの紛争を公平に裁く基準などを明らかにしたものである。武家法の根本法典とされ、のちの室町幕府法や戦国大名の分国法にも影響を与えた。

鎌倉幕府の滅亡ののち後醍醐天皇によって始められた建武の新政では、政治機構として諸機関がおかれた。建武の新政の崩壊後、約60年にわたり南北朝の動乱が続くが、室町幕府の3代将軍足利義満のときには、南北朝の動乱がしだいにおさまリ、室町幕府の機構はほぼ整えられた。

戦国時代になると、戦国大名の中には、領国支配の基本法として分国法を制定するものも現われた。

問1 下線部(ア)に関連して、以下の記述のうち、誤りを含むものはどれか。

1

- ① 孝徳天皇のときに「改新の詔」が出され、豪族の田荘・部曲を廃止して公地公民制への移行をめざす政策方針が示されたといわれている。
- ② 持統天皇のときに戸籍である庚寅年籍が作成され、民衆の把握が進められた。
- ③ 推古天皇のときに冠位十二階の制が定められ、個人の才能・功績に対し冠位を与えることにより、氏姓制度による政治を改め、官制の整備をめざしたと考えられている。
- ④ 天智天皇のときに飛鳥浄御原令が施行された。
- ⑤ 天武天皇のときに八色の姓が定められて豪族たちは天皇を中心とした新しい身分秩序に編成された。

問2 下線部(イ)に関連して、以下の記述のうち、誤りを含むものはどれか。

2

- ① 律令官制上、外交・軍事上の要地である九州北部には西海道を統轄する大宰府がおかれた。
- ② 律令制下の身分制度は、良民と賤民にわけられ、賤民には官有の陵戸・官戸・公奴婢、私有の家人・私奴婢の五種類があった。
- ③ 律令国家では、戸籍は6年ごとに作成され、それにもとづいて6歳以上の男女に口分田が班給され、本人が死ぬとその年のうちに収公された。
- ④ 律令制定後に出された法令を、律令の規定を補足・修正する格と施行細則の式とに分類・編集し、弘仁格式・貞観格式・延喜格式の三代格式が編纂された。
- ⑤ 勘解由使は、令外官の一つで、国司の交替の際、後任者から前任者に渡される解由状の授受を審査するために設けられた。

問3 下線部(ウ)に関連して、以下の記述のうち、誤りを含むものはどれか。

3

- ① 御成敗式目以後に、必要に応じて鎌倉幕府によって発布された個別の法令は式目追加と呼ばれた。
- ② 御成敗式目が制定されたときの執権は北条泰時である。
- ③ 御成敗式目には、守護や地頭の任務と権限についての定めもおかれた。
- ④ 御成敗式目によれば、女性に分割相続された所領は、本人の死後は惣領に返されなければならないとされた。
- ⑤ 室町時代には、武士の子弟の教育に『御成敗式目』が教科書として用いられた。

問4 下線部(エ)に関連して、以下の記述のうち、もっとも適切なものはどれか。 4

- ① 建武の新政では、鎌倉幕府の引付を受け継いで所領関係の訴訟を取り扱う記録所が設置された。
- ② 建武の新政では、諸国には、鎌倉時代におかれた守護は廃され、国司がおかれた。
- ③ 建武の新政では、土地所有権は、すべて大田文による確認を必要とするとされた。
- ④ 室町幕府の機構において、管領のもとに政所がおかれて、財政を管掌した。
- ⑤ 室町幕府の機構において、侍所の長官は、赤松・大内・山名・京極の4氏から任命されるのが慣例であった。

問5 下線部(オ)に関連して、以下の分国法の規定の説明としてもっとも適切なものはどれか。 5

- 一 駿・遠両国の輩、或はわたくしとして他国より嫁をとり、或は婿にとり、娘をつかはす事、自今已後停止し畢ぬ。
- ① 領国の家臣が勝手に他国の者と縁組みすることを禁止する、朝倉氏の分国法の規定である。
 - ② 領国の家臣が勝手に他国の者と縁組みすることを禁止する、今川氏の分国法の規定である。
 - ③ 領国の家臣のおもなものを城下町に集住させる、朝倉氏の分国法の規定である。
 - ④ 領国の家臣のおもなものを城下町に集住させる、武田氏の分国法の規定である。
 - ⑤ 領国の家臣相互の紛争に喧嘩両成敗を適用する、今川氏の分国法の規定である。
 - ⑥ 領国の家臣相互の紛争に喧嘩両成敗を適用する、武田氏の分国法の規定である。

B

豊臣政権が実施した政策によって、兵農・商農分離が確立し、近世社会における身分制の骨格ができあがったとされる。江戸幕府は、さまざまな集団によって構成される社会を、身分と法の秩序にもとづいて支配した。

江戸幕府の8代将軍徳川吉宗の政権の末期には、種々の国家制度を充実させていった。公事方御定書を制定して、判例にもとづく合理的な司法判断を進めた。また、1615年以降の、^(イ)江戸幕府の出した法令である触れを類別に編纂した御触書寛保集成を1744年に完成させた。そして、御触書集成の編纂は幕府事業としてその後の政権に引き継がれた。

王政復古の大号令が発せられ、江戸幕府にかわり新政府が樹立されると、新政府は新国家の建設を進めていった。その後の中央政府の組織（中央官制）は、おおまかには、1868年に制定された政体書による官制、1869年の版籍奉還の際の官制改革、1871年の廃藩置県断行後の官制改革といった変遷をたどって整備が進められた。

そうして、のちに藩閥政府と呼ばれる政権の基礎がほぼ固まったが、1874年に民撰議院設立の建白書が提出されたことをきっかけに、自由民権論が急速に高まった。これに対して政府は、時間をかけて立憲制に移行すべきことを決める一方、自由民権運動の高まりにはきびしい取り締まりでのぞんだ。^(エ)

政府は、明治十四年の政変の際に、天皇と政府に強い権限を与える憲法を制定する方針を決定し、政府の憲法草案作成作業が極秘のうちに進められ、1889年、大日本帝国憲法が発布された。西洋を範とする法典の編纂は明治初年に着手され、憲法に先行して公布された法典もあった。その後も、条約改正のためあって、欧米諸国にならった近代法の編纂が進められ、法治国家としての体裁が整えられた。

問6 下線部(ア)に関連して、以下の記述のうち、もっとも適切なものはどれか。

6

- ① 慶長の役が始まった年に豊臣政権下で人掃令が出され、これにもとづいて全国的な戸口調査がおこなわれた。
- ② 後水尾天皇のときにおきた紫衣事件をきっかけに、禁中並公家諸法度が制定され、天皇や公家の生活・行動が規制された。
- ③ 江戸幕府が仏教各宗派に対して出した最初の法令は、17世紀後半に出された諸宗寺院法度である。
- ④ 将軍が徳川家綱のときに出された代がわりの武家諸法度において、第1条の「文武弓馬の道」が「文武忠孝を励し、礼儀を正すべき事」に改められた。
- ⑤ 18世紀半ばに陸奥八戸の医師安藤昌益は『自然真営道』を著し、封建的な身分制を否定した。

問7 下線部(イ)に関連して、以下の江戸幕府の出した法令についての記述のうち、誤りを含むものはどれか。 7

- ① 寛政の改革では、棄捐令が出されて、米の売却などを扱う札差に、旗本に対する貸金を放棄させた。
- ② 寛政の改革では、出版統制令が出されて、人情本の代表的作家である為永春水が処罰された。
- ③ 享保の改革では、金銀貸借についての争いを幕府に訴えさせず、当事者間で解決させるために相対済し令が出された。
- ④ 享保の改革では、時限的に、上げ米の令にもとづき、大名から石高1万石について100石を上納させるかわりに参勤交代の負担をゆるめた。
- ⑤ 日米交易をはかろうとしたアメリカ商船のモリソン号を幕府は異国船打払令にもとづいて撃退させた。

問8 下線部(ウ)に関連して、以下の記述のうち、誤りを含むものはどれか。 8

- ① 王政復古の大号令によれば、天皇のもとに新たに総裁・議定・参与の三職をおくとされた。
- ② 政体書による官制では、三権分立制を取り入れるなど、多分に形式的とはいえ、欧米的な近代政治の体裁をとった。
- ③ 政体書による官制では、神祇官のもとに太政官をおいた。
- ④ 廃藩置県後の官制改革で、太政官を三院制とし、正院のもとに各省をおいた。
- ⑤ 廃藩置県後の官制改革で、神祇官は廃されて神祇省に格下げされた。

問9 下線部(エ)に関連して、以下の政府の対応 a～c を古いものから年代順に正しくならべたものはどれか。 9

- a 集会条例の制定
- b 新聞紙条例の制定
- c 保安条例の制定

- ① a → b → c
- ② a → c → b
- ③ b → a → c
- ④ b → c → a
- ⑤ c → a → b
- ⑥ c → b → a

問10 下線部(オ)に関連して、以下の記述のうち、誤りを含むものはどれか。

10

- ① ボアソナードが起草し、1880年に公布された刑法は、皇室に対する犯罪を大逆罪・不敬罪とし、厳罰とする規定を設けた。
- ② 大日本帝国憲法の公布の前年に皇室典範が制定され、皇位の継承などについて定められた。
- ③ 伊藤博文を中心に井上毅らが起草に当たった政府の憲法草案は、枢密院で審議され、欽定憲法として公布された。
- ④ ボアソナードが起草した民法は、1890年に公布されたが、穂積八束による批判などの民法典論争の結果、施行延期となった。
- ⑤ 商法は1890年に公布され、さらにその後1899年に修正商法が公布された。

C

大日本帝国憲法と同時に衆議院議員選挙法が公布され、それにもとづき、1890年に日本最初の衆議院議員総選挙がおこなわれた。そこでは、選挙人は満25歳以上の男性で直接国税15円以上の納入者に限られた。

その後の衆議院議員選挙法の改正によって、選挙人の納税資格による制限が緩和された。衆議院議員選挙法では選挙区制についても定められ、大正デモクラシーの潮流の中、選挙人の納税資格が直接国税3円以上に引き下げられた改正では、選挙区制は を原則とするとされた。

大正末期、清浦奎吾内閣は議会を解散して総選挙にのぞんだが、結果は護憲三派の圧勝に終わった。清浦内閣は総辞職し、かわって誕生した内閣のもとで、衆議院議員選挙法の改正がおこなわれ、選挙人の納税資格による制限が撤廃された。そして、この衆議院議員選挙法改正後最初の総選挙がおこなわれた年には、治安対策として、 。

日本経済は、1930年1月に実施された金輸出解禁（金解禁）による不況と世界恐慌の二重^(ウ)の打撃を受け、深刻な恐慌状態におちいった。日本は他の資本主義諸国に先駆けて1933年頃には世界恐慌以前の生産水準を回復したが、経済統制を強める施策がとられるようになっていった。

太平洋戦争終了後、日本はポツダム宣言にもとづいて連合国に占領されることになった。新憲法が日本国憲法として1946年11月3日に公布され、1947年5月3日から施行された。新^(エ)憲法の精神にもとづいて、家族制度・地方制度・司法制度などにも民主的、近代的な改革が加えられ、教育の制度・内容も民主化された。

サンフランシスコ平和条約の発効は、GHQの指令で制定された多数の法令の失効を意味した。政府は、治安体制の強化を進め、1952年に破壊活動防止法を制定し、1954年には新^(オ)警察法により、警察組織の中央集権化をはかった。

第二次世界大戦後、日本経済の高度経済成長が達成される一方で、深刻な産業公害がおきた。公害対策基本法^(カ)が制定されて大気汚染・水質汚濁など7種の公害が規制され、事業者・国・地方自治体の責任が明らかにされた。

問11 空欄 (ア) と (イ) に該当するもののもっとも適切な組み合わせはどれか。

11

空欄 (ア) に該当する選挙区制の名称

- a 大選挙区制
- b 小選挙区制

空欄 (イ) に該当する文

- c 治安維持法が制定された
- d 治安維持法が緊急勅令によって改正されて最高刑が死刑となった
- e 警視庁内に特別高等課（特高）と呼ばれる思想警察がはじめて設置された

- ① (ア) - a (イ) - c
- ② (ア) - a (イ) - d
- ③ (ア) - a (イ) - e
- ④ (ア) - b (イ) - c
- ⑤ (ア) - b (イ) - d
- ⑥ (ア) - b (イ) - e

問12 下線部ウに関連して、以下の、1930年代に制定された法令についての記述のうち、誤りを含むものはどれか。

12

- ① 政府は国家総動員法によって、議会の承認なしに、戦争遂行に必要な物資や労働力を動員する権限を与えられた。
- ② 政府は重要産業統制法を制定して、重要産業に指定された産業に属する企業がカルテルを結成することを禁じた。
- ③ 政府は日中戦争開始後、軍需産業を最優先とする直接的な経済統制の一環として、臨時資金調整法を制定した。
- ④ 政府は1939年に価格等統制令を出して公定価格制を導入した。
- ⑤ 第1次近衛文麿内閣のときに電力国家管理法が制定されて、政府は電力の国家管理をおこなった。

問13 以下の記述のうち、1947年以降の、下線部(エ)の動きにあてはまらないものはどれか。

13

- ① 内務省が廃止された。
- ② 治安維持法が廃止された。
- ③ 民法が改正され、戸主・家督相続制が廃止された。
- ④ 教育基本法が制定され、男女共学が原則となった。
- ⑤ 地方自治法により、都道府県知事・市町村長は住民の直接選挙制となった。

問14 下線部(オ)に関連して、以下の、1950年代の教育分野のできごと a～c を古いものから年代順に正しくならべたものはどれか。

14

- a 教育委員の選出方法が公選制から地方自治体の首長による任命制に切りかえられた。
- b 公立学校教員の政治活動と政治教育を禁じた「教育二法」が公布された。
- c はじめて、教員の勤務成績の評定を全国いっせいに実施した。

- ① a → b → c
- ② a → c → b
- ③ b → a → c
- ④ b → c → a
- ⑤ c → a → b
- ⑥ c → b → a

問15 以下のうち、下線部(カ)の公害対策基本法が制定された年が含まれるのはどれか。

15

- ① いざなぎ景気
- ② 岩戸景気
- ③ 神武景気
- ④ 円高不況
- ⑤ バブル経済

Ⅱ 以下のA～Cの写真は僧侶の像であり，写真の右側の文章はそれぞれの説明文である。これらをもとにして，問1～問9に対する答えを選択肢より一つずつ選び，その番号を解答用紙の所定の欄にマークせよ。

A



奈良時代に日本に戒律を伝えた唐の僧侶の像である。

問1 孝謙天皇は，Aの写真の像で表現された僧侶から戒を受けた。以下のうち，孝謙天皇の在位中のできごとにあてはまらないものはどれか。

16

- ① 漢詩集『懷風藻』が編纂された。
- ② 橘奈良麻呂の変がおきた。
- ③ 東大寺大仏の開眼供養の儀式がおこなわれた。
- ④ 渤海が日本に使節を派遣して通交を求めてきた。
- ⑤ 養老律令が施行された。

問2 Aの写真の像は乾漆像である。以下のうち，乾漆像はどれか。

17


- ① 元興寺薬師如来像
- ② 興福寺八部衆像
- ③ 中宮寺半跏思惟像
- ④ 東大寺法華堂執金剛神像
- ⑤ 薬師寺金堂薬師三尊像

問3 以下の奈良時代の仏教・僧侶に関する記述のうち、誤りを含むものはどれか。

18

- ① 三論・成実・法相・俱舎・華嚴・律の南都六宗と呼ばれる学系が形成された。
- ② 鎮護国家の思想によって、僧侶は民間での布教を自由におこなうことができた。
- ③ 行基は大僧正に任ぜられ、東大寺大仏の造営に協力した。
- ④ 玄昉は吉備真備とともに橘諸兄の政権に参画した。
- ⑤ 道鏡は後ろ盾であった天皇のもとで、太政大臣禪師、さらに法王に任ぜられた。

B



「市聖」と呼ばれた10世紀の僧侶が、民間で念仏行脚している姿を表わしたもので、慶派と呼ばれる仏師による鎌倉時代の作品である。

問4 Bの写真の像の作者はだれか。

19

- ① 運慶 ② 快慶 ③ 康勝 ④ 康弁 ⑤ 湛慶

問5 以下の、Bの写真の像で表現された僧侶が活躍した10世紀以降の仏教に関連した文化史上のできごと a～c を古いものから年代順に正しくならべたものはどれか。

20

- a 源信（恵心僧都）が『往生要集』を著した。
b 平清盛が安芸の厳島神社に『平家納経』を奉納した。
c 平等院鳳凰堂が落成した。


- ① a→b→c
② a→c→b
③ b→a→c
④ b→c→a
⑤ c→a→b
⑥ c→b→a

問6 以下の記述のうち、Bの写真の像で表現された僧侶が活躍した10世紀のできごととして誤りを含むものはどれか。

21

- ① 醍醐天皇のときに、延喜の荘園整理令が出された。
- ② 受領の暴政を訴える「尾張国郡司百姓等解」が提出された。
- ③ 三善清行が「意見封事十二箇条」を天皇に提出した。
- ④ 平将門は反乱をおこし、常陸・下野・上野の国府を攻め落として、新皇と自称した。
- ⑤ もと伊予の国司であった藤原純友は反乱をおこしたが、藤原秀郷らによって討たれた。

C



勸進上人となって、宋人陳和卿の協力を得て、東大寺の再建（東大寺は1180年の平家の南都焼打ちにより焼失した。）に当たった僧侶の像で、鎌倉時代の作品として知られている。

奈良国立博物館提供
著作権の都合により、類似の写真と差し替えています。

問7 Cの写真はだれの像か。

22

- ① 叡尊 ② 貞慶 ③ 重源 ④ 忍性 ⑤ 明恵

問8 Cの写真の像で表現された僧侶は大勧進職に任ぜられたが、その大勧進職は栄西に引き継がれた。以下の記述のうち、栄西を開祖とする鎌倉新仏教の宗派の教義についての説明としてもっとも適切なものはどれか。

23

- ① 坐禅によってみずからを鍛練し、釈迦の境地に近づくことを主張する禅宗の中で、坐禅の中で師から与えられる問題を一つひとつ解決する公案問答によって、悟りに達することを主眼とした。
- ② 善人・悪人や信心の有無を問うことなく、すべての人が救われるという念仏の教えを説き、念仏札を配り、踊念仏によって多くの民衆に教えを広めながら各地を布教して歩いた。
- ③ 法華経を釈迦の正しい教えとして、題目（南無妙法蓮華経）をとなえることで救われると説いた。
- ④ 煩惱の深い人間（悪人）こそが、阿弥陀仏の救いの対象であるという悪人正機を説いた。
- ⑤ もっぱら阿弥陀仏の誓いを信じ、念仏（南無阿弥陀仏）をとなえれば、死後は平等に極楽浄土に往生できるという専修念仏の教えを説いた。

問9 Cの写真の像で表現された僧侶は、東大寺の再建に当たる中で、兵庫津（大輪田泊）の改修もおこなった。「兵庫北関入船納帳」はそこに置かれた兵庫北関を通関した船に対する関銭賦課の記録台帳で、中世における商品流通の実態を伝えている。この「兵庫北関入船納帳」には問（問丸）の情報が記録されているが、以下のうち、問（問丸）の説明としてもっとも適切なものはどれか。

24

- ① 都市の常設の小売店で商品を売る業者
- ② 陸あげされた商品を馬の背にのせて陸路の運搬に当たる業者
- ③ 商品の中継と委託販売などをおこなう業者
- ④ 船積みされた商品の海上輸送に当たる船頭
- ⑤ 商品をつくる手工業者

Ⅲ 以下のA～Cの文章を読み、問1～問9に対する答えを選択肢より一つずつ選び、その番号を解答用紙の所定の欄にマークせよ。

A

室町時代の日朝貿易では大量に木綿が輸入された。戦国時代の南蛮貿易は中国産の生糸を日本にもたらし、日本の銀などと交易された。江戸時代初期、ポルトガル商人は、マカオを根拠地に中国産の生糸（白糸）を長崎に運んで巨利を得ていたが、江戸幕府は糸割符制度^(ア)を設けて、ポルトガル商人らの利益独占を排除した。鎖国により、日本に来航する貿易船はオランダ船と中国船だけになり、貿易港は長崎1港に限られた。オランダは貿易の利益のみを求め、オランダ船は中国産の生糸や絹織物・綿織物などの織物類をもたらした。

17世紀末に全国市場が確立し、三都や城下町などの都市が発達すると、消費需要が多様化し、これに応じて商品生産が各地で活発化した。綿作は各地に普及し、養蚕・製糸も各地でおこなわれ、江戸時代中期には、中国産の生糸にかわって国内産の生糸が需要をまかなうようになった。農業以外の諸産業も著しく発達し、商品作物を含め、特産物が全国各地に生まれた。^(イ)また、江戸時代を通じて織物業をはじめとする手工業の生産のあり方にあたらしい動きがみられた。^(ウ)

問1 下線部(ア)の糸割符制度の糸割符仲間は、のちに五カ所商人となるが、成立期は三カ所の特定の商人らで組織された。成立期の糸割符仲間は、長崎以外に、どの都市の商人らで組織されたか。

25

- ① 江戸・大坂
- ② 江戸・京都
- ③ 江戸・堺
- ④ 大坂・京都
- ⑤ 大坂・堺
- ⑥ 京都・堺

問2 下線部(イ)に関連して、以下の記述のうち誤りを含むものはどれか。


26

- ① 砂鉄の採集によるたたら製鉄が、四国地方を中心におこなわれた。
- ② 中世末以来の網漁の技術が、上方漁民によって全国に広まった。
- ③ 陶磁器は京焼・加賀九谷焼・肥前有田焼が知られるようになった。
- ④ 播磨の竜野（龍野）や関東の野田・銚子が醤油の特産地となった。
- ⑤ 藩が直轄する山林から伐り出された材木が商品化し、木曾檜や秋田杉として有名になった。

問3 下線部(ウ)に関連して、以下の記述のうち、図Xに描かれた手工業生産についての説明として誤りを含むものはどれか。

27

図X



『尾張名所図会』による。

- ① 図Xに描かれている手工業生産では、分業がなされている。
- ② 図Xに描かれているような手工業生産は、桐生・足利の絹織物業でもみられた。
- ③ 図Xに描かれているような手工業生産は、当地では19世紀前半からさかんになった。
- ④ 図Xには、高機が描かれている。
- ⑤ 図Xは、問屋制家内工業の様子が描かれている。

B

幕末の開国によって始まった貿易は、繊維産業をはじめとする国内産業に大きな影響を与えた。^(ア)貿易の拡大は流通機構にも大きな変動を及ぼし、幕府は貿易の統制をはかり、五品江戸廻送令を出した。また、同じ量の銀と交換できる金が、外国に比べて日本の方が という日本と外国との金銀比価の違いから、多量の金貨が海外に流出した。幕府は万延貨幣改鑄をおこなってこれを防ごうとしたが、改鑄で発行された万延小判は、その直前に鑄造された小判に比べると、小判1両の重さは 。

明治維新後、政府は民間産業を近代化し、貿易赤字を解消しようと輸出の中心となっていた生糸の生産拡大に力を入れた。1872年、群馬県に官営模範工場として富岡製糸場^(イ)を設け、フランスの先進技術の導入・普及と工女の養成をはかった。

問4 下線部(ア)に関連して、以下の記述のうち、貿易が始まった当初の説明として誤りを含むものはどれか。

- ① 1859年、貿易は横浜（神奈川）・長崎・箱館の3港で始まった。
- ② 開国当初の貿易は輸出超過であった。
- ③ 相手国としてはアメリカとの貿易取引が一番多かった。
- ④ 日本からの主要輸出品は生糸・茶・蚕卵紙・海産物であった。
- ⑤ 輸出入品の取引は居留地において外国商人と日本商人とのあいだでおこなわれた。

問5 空欄 と に該当するもののもっとも適切な組み合わせはどれか。

- | | | | | |
|---|----------------------------------|------|----------------------------------|--------------|
| ① | <input type="text" value="(イ)"/> | -多い | <input type="text" value="(ウ)"/> | -50%以上重くなった |
| ② | <input type="text" value="(イ)"/> | -多い | <input type="text" value="(ウ)"/> | -ほとんど変わらなかった |
| ③ | <input type="text" value="(イ)"/> | -多い | <input type="text" value="(ウ)"/> | -50%以上軽くなった |
| ④ | <input type="text" value="(イ)"/> | -少ない | <input type="text" value="(ウ)"/> | -50%以上重くなった |
| ⑤ | <input type="text" value="(イ)"/> | -少ない | <input type="text" value="(ウ)"/> | -ほとんど変わらなかった |
| ⑥ | <input type="text" value="(イ)"/> | -少ない | <input type="text" value="(ウ)"/> | -50%以上軽くなった |

問6 下線部(エ)の富岡製糸場は、1893年に三井に払い下げられている。以下のうち、払い下げられた官営事業所と払下げ先の組み合わせとして誤りを含むものはどれか。 30

- ① 阿仁銅山－住友
- ② 生野銀山－三菱
- ③ 兵庫造船所－川崎
- ④ 深川セメント製造所－浅野
- ⑤ 新町紡績所－三井

C

日本の産業革命の中心は、綿糸を生産する紡績業であった。幕末以来、一時衰えた綿織物生産はしだいに上向いた。綿織物業の回復が、原料糸を供給する紡績業の勃興の前提となった。渋沢栄一らが設立した大阪紡績会社は、輸入の紡績機械・蒸気機関を用いた1万錘の大規模経営に成功した。これに刺激されて、会社設立ブームがおこり、在来の手紡ぎやガラ紡(ア)による綿糸生産を圧迫しながら機械制生産が急増した。の時期に綿糸の年間生産量が年間輸入量を上まわり、の時期に綿糸の年間輸出量が年間輸入量を上まわった。さらには、大紡績会社が合併などにより独占的地位を固め、輸入された大型力織機で綿織物もさかんに生産した。一方、農村の綿織物業では、国産の小型力織機を導入して小工場に転換する動きが進んだ。結果、綿布の年間輸出額が年間輸入額を上まわるようになった。

幕末以来、生糸は欧米向けの輸出品であり、製糸業は欧米向けの輸出産業として急速に発達した。当初は座繰製糸が普及したが、ついで器械製糸の小工場が長野県・山梨県などの農村地帯に続々と生まれ、原料の繭を供給する養蚕農家も増加した。輸出増にともない、器械製糸の生産量が座繰製糸を上まわり、生糸を原料とする絹織物でも、北陸地方を中心に輸出向けの羽二重生産がさかんになって、力織機も導入された。こうして日本は世界最大の生糸輸出国となった。(エ)

問7 下線部(ア)のガラ紡を発明したのはだれか。

31

- ① 亜欧堂田善
- ② 臥雲辰致
- ③ 高峰讓吉
- ④ 豊田佐吉
- ⑤ 平賀源内

問8 空欄とに該当するもののもっとも適切な組み合わせはどれか。

32

- | | | | | |
|---|----------------------------------|--------------|----------------------------------|--------------|
| ① | <input type="text" value="(イ)"/> | －日清戦争より前 | <input type="text" value="(ウ)"/> | －日清戦争より前 |
| ② | <input type="text" value="(イ)"/> | －日清戦争より前 | <input type="text" value="(ウ)"/> | －日清戦争と日露戦争の間 |
| ③ | <input type="text" value="(イ)"/> | －日清戦争より前 | <input type="text" value="(ウ)"/> | －日露戦争より後 |
| ④ | <input type="text" value="(イ)"/> | －日清戦争と日露戦争の間 | <input type="text" value="(ウ)"/> | －日清戦争と日露戦争の間 |
| ⑤ | <input type="text" value="(イ)"/> | －日清戦争と日露戦争の間 | <input type="text" value="(ウ)"/> | －日露戦争より後 |
| ⑥ | <input type="text" value="(イ)"/> | －日露戦争より後 | <input type="text" value="(ウ)"/> | －日露戦争より後 |

問9 下線部(エ)の、日本が世界最大の生糸輸出国となった時期にもっとも近いできごとほど
れか。

33

- ① 官営八幡製鉄所が操業を開始した。
- ② 金本位制が確立することになる貨幣法が制定された。
- ③ 鉄道国有法が公布された。
- ④ 北米航路が開設された。
- ⑤ 戊申詔書が出された。

Ⅳ 以下のA～Cの文章を読み，問1～問9に対する答えを選択肢より一つずつ選び，その番号を解答用紙の所定の欄にマークせよ。

A

1918年，米価の上昇に拍車がかかると，7月の富山県での騒動をきっかけに，東京・大阪^(ア)をはじめ全国的な大騒擾となった。政府は軍隊を出動させて鎮圧に当たったが，責任を問われて寺内正毅内閣は総辞職した。
^(イ)

問1 下線部(ア)の1918年に創刊された雑誌『赤い鳥』の創刊者はだれか。

34

- ① 石橋湛山
- ② 菊池寛
- ③ 鈴木三重吉
- ④ 武者小路実篤
- ⑤ 柳田国男

問2 以下の記述のうち，下線部(イ)の寺内正毅内閣のときのできごととして誤りを含むものはどれか。

35

- ① アメリカが第一次世界大戦に参戦した。
- ② イギリスの要請で日本軍艦が地中海に派遣された。
- ③ 軍部大臣現役武官制を改めて予備・後備役の軍人が陸海軍大臣になれるようにした。
- ④ 段祺瑞政権に，西原借款と呼ばれる巨額の借款を与えた。
- ⑤ ロシアで革命がおこり，世界ではじめて社会主義国家が生まれた。

問3 文章Aで述べられているできごとは社会運動の勃興のきっかけになったといわれている。以下の記述のうち、文章Aの前後におこったできごととして誤りを含むものはどれか。

36

- ① 被差別部落の住民に対する社会的差別を自主的に撤廃しようとする運動が、西光万吉らを中心に本格化し、全国水平社が結成された。
- ② 杉山元治郎・賀川豊彦らによって、小作人組合の全国組織である日本農民組合が結成された。
- ③ 鈴木文治によって、労働者の修養団体として友愛会が組織された。
- ④ 平塚らいてう・山川菊栄らによって新婦人協会が設立され、参政権の要求など女性の地位を高める運動が進められた。
- ⑤ 民本主義をとなえる吉野作造は黎明会を組織して全国的な啓蒙運動をおこなった。

B

1920年代、議会で蔵相の失言をきっかけに、金融恐慌が発生した。一部の銀行の危機的な経営状況が暴かれ、預金者が預金の払戻しを求めて銀行におしかける取付け騒ぎがおこった。そうした中で、経営が破綻した鈴木商店に対する巨額の不良債権を抱えた台湾銀行が経営危機におちいり、^(イ)第1次若槻礼次郎内閣は、台湾銀行を救済しようとしたが失敗した。そして、多くの銀行が休業・破綻に追いこまれた。

問4 下線部(ア)の1920年代の文化・芸術に関する以下の記述のうち、誤りを含むものはどれか。

37

- ① 円本が刊行され、岩波文庫が創刊された。
- ② 『大阪朝日新聞』と『東京朝日新聞』の発行部数の合計が100万部をこえた。
- ③ 小山内薫らが築地小劇場を創設した。
- ④ 辰野金吾の設計による旧帝国ホテルが竣工した。
- ⑤ 1925年にラジオ放送が開始された。

問5 下線部(イ)の第1次若槻礼次郎内閣のときに、中国では国民革命軍による北伐が開始された。以下のできごと a～c を古いものから年代順に正しくならべたものはどれか。

38

- a 上海の在華紡で発生したストライキをきっかけとした五・三〇事件がおきた。
- b 張学良が蒋介石を西安の郊外で監禁する西安事件がおきた。
- c 日中関税協定が締結された。

- ① a → b → c
- ② a → c → b
- ③ b → a → c
- ④ b → c → a
- ⑤ c → a → b
- ⑥ c → b → a

問6 文章Bに関連して、以下の記述のうち、誤りを含むものはどれか。

39

- ① 鈴木商店は、第一次世界大戦中に総合商社として急速に成長した。
- ② 関東大震災で銀行は、企業が振り出した手持ちの手形が決済不能となり、日本銀行の特別融資で一時をしのいだが、震災手形の決済は進まなかった。
- ③ 金融恐慌の過程で、預金は大銀行に集中し、三井・三菱・住友・安田・第一の五大銀行が支配的な地位を占めた。
- ④ 第1次若槻礼次郎内閣は、台湾銀行を救済する法案を議会に提出したが成立しなかったため、総辞職した。
- ⑤ 第1次若槻礼次郎内閣にかわって組織された内閣は、3週間のモラトリアムを発し、日本銀行から巨額の融資をおこない、金融恐慌を沈静化させた。

C

高度経済成長期に、は「」を掲げて内閣を組織した。内閣は、工場の地方分散、新幹線と高速道路による高速交通ネットワークの整備などの政策を打ち出し、公共投資を拡大した。「」に刺激されて地価が高騰し、これに第1次石油危機による原油価格の高騰が重なって、激しいインフレが発生し、狂乱物価と呼ばれた。そして、実質経済成長率が戦後初のマイナス成長となった。

問7 空欄とに該当するもののもっとも適切な組み合わせはどれか。

40

- | | | | | |
|---|----------------------------------|---------|----------------------------------|------------|
| ① | <input type="text" value="(ア)"/> | - 池田勇人 | <input type="text" value="(イ)"/> | - 国民所得倍増計画 |
| ② | <input type="text" value="(ア)"/> | - 池田勇人 | <input type="text" value="(イ)"/> | - 日本列島改造論 |
| ③ | <input type="text" value="(ア)"/> | - 田中角栄 | <input type="text" value="(イ)"/> | - 国民所得倍増計画 |
| ④ | <input type="text" value="(ア)"/> | - 田中角栄 | <input type="text" value="(イ)"/> | - 日本列島改造論 |
| ⑤ | <input type="text" value="(ア)"/> | - 中曽根康弘 | <input type="text" value="(イ)"/> | - 国民所得倍増計画 |
| ⑥ | <input type="text" value="(ア)"/> | - 中曽根康弘 | <input type="text" value="(イ)"/> | - 日本列島改造論 |

問8 下線部(ウ)に関連して、以下の記述のうち、第1次石油危機後の安定成長期の日本経済を説明したものとして誤りを含むものはどれか。

41

- ① 欧米先進諸国と比べると相対的に高い経済成長率を記録した。
- ② 企業は「減量経営」につとめた。
- ③ 自動車・電気機械が輸出を中心に生産をのばした。
- ④ 就業人口に占める第二次産業の割合が第三次産業のそれを上回った。
- ⑤ 石油の代替エネルギーとして原子力への依存度が高まった。

問9 以下の，文章Cの前後のできごと a～c を古いものから年代順に正しくならべたものはどれか。

42

- a 固定相場制の復活をはかるべく，ワシントンのスミソニアン博物館で開かれた10カ国蔵相会議で，為替レートが1ドル=308円となった。
- b 衆議院議員総選挙で自由民主党は結党以来はじめて衆議院の過半数を割り込んだ。
- c パリでベトナム和平協定が調印された。

- ① a → b → c
- ② a → c → b
- ③ b → a → c
- ④ b → c → a
- ⑤ c → a → b
- ⑥ c → b → a