

現代社会

第1問 次の文章を読んで、下の問いに答えよ。

研修医として働くAさん(27)は、若手の医師や医学部生らに長時間労働の問題を訴えている。大学の授業のゼミで小児科医の夫を過労自殺(過労死)で亡くした女性の話を聞き、衝撃を受けた。^(ア)

労働基準法^(イ)では雇われて働く場合は1日8時間、週40時間までが原則だ。特別な事情があっても時間外労働(残業)は月100時間未満(休日労働を含む)、年720時間が上限となる。ところが、医師は勤務実態を考慮し対象外になっている。コロナ禍で医療現場の負担は増し、長時間労働が横行している。(A)からは是正勧告を受けた大学病院もある。

コロナ禍は観光や飲食、小売りなど多様な仕事を直撃した。レストランにあったことで、働く人を守るルール^(ウ)の意義に気づく人たちもいる。クルーズ船では、新型コロナウイルスの集団感染が2020年2月に起きた。運航会社は、社員の3割超に退職を促した。対象社員の一人だった女性は、上司から会社の売り上げが見込めないことなどを説明され、退職合意書にサインするよう求められた。提出期限は4日後だった。ためらって出さないでいたところ、解雇を告げられた。社外の労働組合に入って団体交渉したが撤回されず、同じように解雇された同僚と復職を求めて2020年8月に提訴した。^(ウ)

働き手を守るルールは、裁判をすることでも整えられてきた。「非正社員が泣き寝入りしている状況を変えたい」。勤め先だった大手運送会社を提訴した男性(40)はこんな思いを胸に法廷に立ち続けてきた。2012年から派遣社員として神奈川県内の事業所で働き、2013年に1年間の契約社員になった。^(エ)その後も働き続けたが、2018年に更新しないと告げられた。

労働契約法^(オ)では、契約期間が通算5年を超えた人に対し、無期雇用に移る権利を明記している。いわゆる「5年ルール」だ。正社員化を嫌う企業が5年を超える直前で契約を更新しない「雇い止め」が絶えない。

(出典)「働くってなんですか 私たちにチカラを：1」、朝日新聞、2021年3月7日朝刊。
ただし、出題のために改変した。

承諾番号 23-0394
朝日新聞社に無断で転載、コピー、拡散することを禁じる。

問1 下線部(ア)の説明として、最も適切なものを以下から選べ。 1

- ① 脳卒中と心筋梗塞を原因とした死亡（自殺を含む）
- ② 私生活上の疲労を原因とした死亡（自殺を含む）
- ③ 業務上の長時間労働・疲労を原因とした死亡（自殺を含む）
- ④ 失業によるストレスを原因とした死亡（自殺を含む）

問2 下線部(イ)に関連して、以下の問いに答えよ。

(1) 下線部(イ)の説明として、最も適切なものを以下から選べ。 2

- ① 労働者保護を目的として、労働者が人間らしい生活を営むために必要な労働条件の最低基準を定めた法律
- ② 地域別および特定の職業別に、労働者の賃金の最低基準を定めた法律
- ③ 労働関係の公正な調整、労働争議の予防、解決または仲裁基準を定めた法律
- ④ 労働災害防止のために、事業主の責任基準および労働者の安全と健康の基準を定めた法律

(2) 労働三法のうち二つは、労働基準法、労働組合法である。残る一つとして、最も適切なものを以下から選べ。 3

- ① 労働安全衛生法
- ② 労働者派遣法
- ③ 労働関係調整法
- ④ 労働契約法

問3 本文中の空欄（A）は、企業に対し適切な賃金支払い、労働時間管理の有無を調査、指導し、悪質な場合は刑事告発する権限をもつ組織である。空欄（A）に入る語句として、最も適切なものを以下から選べ。 4

- ① 労働組合
- ② 労働審判委員会
- ③ 労働弁護団
- ④ 労働基準監督署

問4 下線部(ウ)に関連して、以下の問いに答えよ。

(1) 下線部(ウ)の説明として、最も適切なものを以下から選べ。 5

- ① 労働者が労働組合を結成し、政治的諸条件のために交渉すること
- ② 労働者が労働組合を結成し、使用者と労働条件をめくり行う話合いのこと
- ③ 労働者が労働条件の維持・向上のために労働組合を結成し、加盟すること
- ④ 労働者が労働組合を結成し、政府に労働条件の改善を要望すること

(2) 団体交渉によって労使紛争が解決されない場合、労働者は労働三権のうち、団体行動権（争議権）を行使し、ストライキを行うことができる。ストライキの説明として、最も適切なものを以下から選べ。 6

- ① 争議参加者が脱落防止を警戒するために、職場付近で見張りを行い、組合員、使用者、顧客などの第三者に働きかける行為
- ② 意識的に作業効率、作業スピードを遅くすることで、使用者に経済的打撃を与える行為
- ③ 仕事を閉鎖することで、働く人々を閉め出す行為
- ④ 労働組合の指示で労働者が集団的に労務提供を拒否する行為

(3) 団体交渉をスムーズにしたり，労使間の紛争を解決したりするための行政組織として労働委員会がある。労働委員会は，^{あつせん}斡旋，調停，仲裁を行う。このうち，斡旋，調停の説明として最も適切なものを，それぞれ下から選べ。

(i) 斡旋

7

(ii) 調停

8

- ① 個別労働関係紛争の解決の促進に関する法律に基づき作られた制度であり，労使どちらかの申し出で開始され，労働委員会のもとで，個別労使紛争の解消を目指す。
- ② 労働委員会に選任された委員会が労使双方の話し合いから紛争解決案を作成するが，労使双方はこの解決案に従わなくてもよい。
- ③ 労働委員会が，裁判官1名と労働審判委員2名からなる委員会を指名し，原則3回以内の調査で，迅速に判断を下す。
- ④ 労働委員会の会長が指名した者が，労使双方の主張の要点を確かめ，助言などの援助活動を行う。

問5 下線部(エ)の説明として，最も適切なものを以下から選べ。

9

- ① 企業の派遣命令に従い，派遣元の企業で業務を遂行する労働者のこと
- ② 派遣元企業と労働契約を結び，派遣先企業の指揮・命令に従う労働者のこと
- ③ 派遣先企業と派遣元企業のいずれとも雇用契約を結び，派遣先企業で働く労働者のこと
- ④ 派遣先企業および派遣元企業のいずれとも労働契約を結ばずに業務を遂行する労働者のこと

問6 下線部(オ)の説明として、最も適切なものを以下から選べ。

10

- ① 客観的にみて合理的な理由を欠き、社会通念上相当であると認められない解雇は無効であると定めている。
- ② 雇用契約期間通算5年を超えた労働者に、次の5年間の雇用を保障した「5年ルール」を定めている。
- ③ パート労働者の能力をより一層発揮してもらうために、「公正な待遇の実現」を定めている。
- ④ 採用における男女差別の禁止、配置や昇進に関する男女の均等な扱いを定めている。

第2問 国境を越えたモノやヒトの移動は増加し続けている。経済のグローバル化によってわれわれの生活は豊かになったが、その一方で一つの国における経済的なショックがさまざまな国へと波及し、世界的な危機をもたらすこともある。そのため、これまで以上に国際経済の動向に注意を払うことが必要である。為替レートや貿易についての統計データを見ながら考えてみよう。

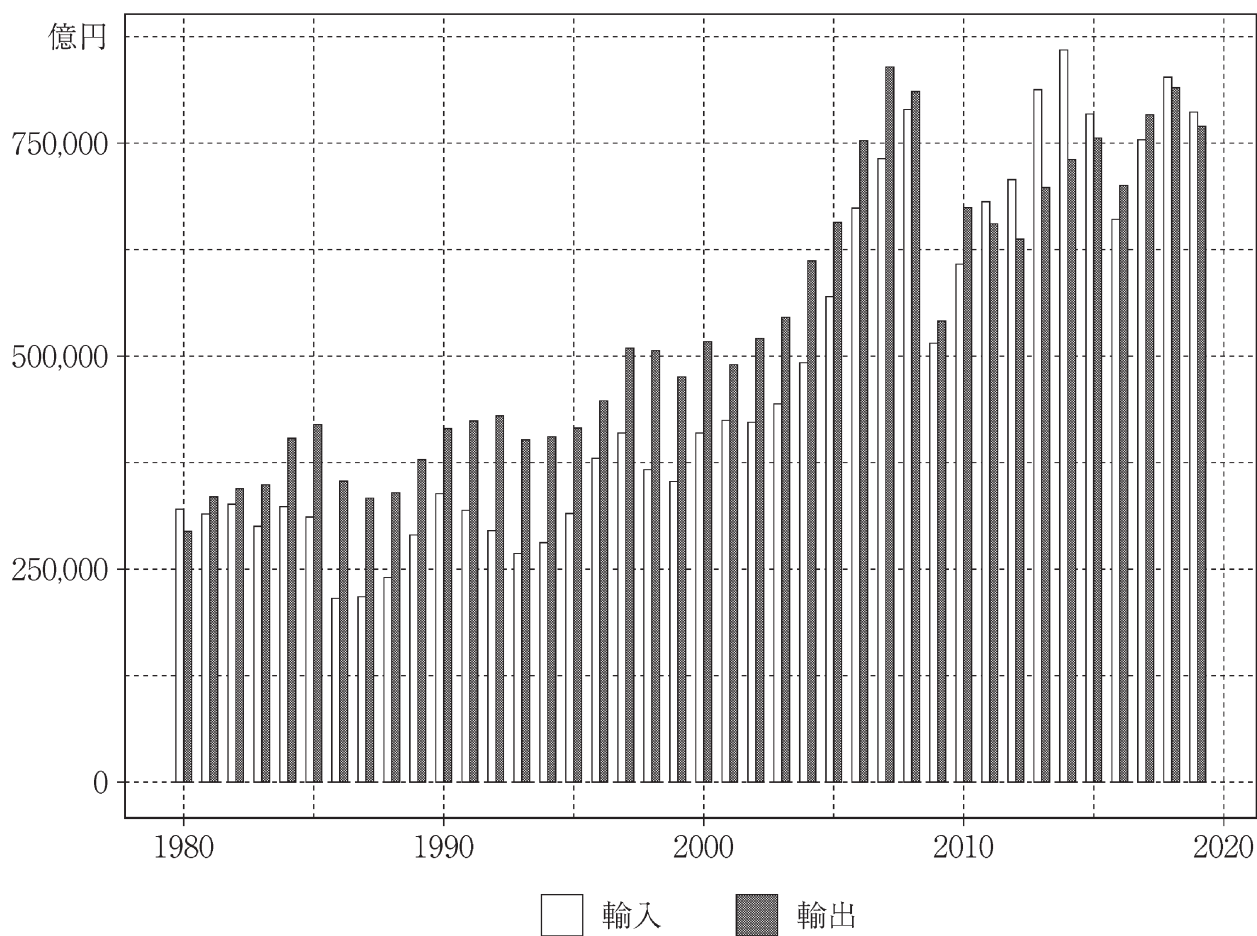
図表1、図表2はそれぞれ1980年から2019年までのドル／円の為替レート（年平均）の推移、日本の輸出額および輸入額の推移を示している。また、図表3は2019年における日本の主要輸出品・主要輸入品とその輸出入額を示したものである。これらを参考に下の問いに答えよ。

図表1：ドル／円為替レート（年平均）



(データの出所) 日本銀行ホームページ

図表 2 : 日本の輸出・輸入額



(データの出所) 財務省貿易統計

図表 3 : 2019年の主要輸出品・主要輸入品

輸出			輸入		
順位	品目	金額(億円)	順位	品目	金額(億円)
1	自動車	119,712	1	原粗油	79,690
2	半導体等電子部品	40,060	2	(イ)	43,498
3	自動車の部品	36,017	3	衣類・同付属品	32,045
4	(ア)	30,740	4	医薬品	30,919
5	原動機	27,279	5	通信機	28,463

(データの出所) 財務省貿易統計

問1 図表1を見ながら、下の問いに答えよ。

(1) 図表1から読み取れることとして、最も適切なものを以下から選べ。

11

- ① アジア通貨危機が起きた年は、ドル／円の年平均為替レートが前年よりも円高になった。
- ② 世界金融危機が生じた年以降、ドル／円の年平均為替レートは5年続けて前年よりも円安になった。
- ③ 阪神淡路大震災と東日本大震災の年は、いずれもドル／円の年平均為替レートは前年よりも円高になった。
- ④ 12か国で TPP（環太平洋経済連携協定）が署名された年は、ドル／円の年平均為替レートは前年よりも円安になった。

(2) 1985年の出来事で、それ以降の円高のきっかけとなったものとして、最も適切なものを以下から選べ。

12

- ① 変動相場制への移行
- ② スミソニアン協定
- ③ プラザ合意
- ④ 日米通商交渉

問2 次の為替レートについて書かれた文章を読んで、下の問いに答えよ。

為替レートがどのように決まるのかを説明する仮説の一つとして購買力平価仮説がある。例として、日本円とアメリカドルの為替レートを考えよう。

いま、まったく同じハンバーガーをアメリカでは8ドル、日本では1200円で買えるとすれば、ハンバーガーで測った購買力平価は1ドル=150円である。

このとき、為替レートが1ドル=100円であれば、アメリカでハンバーガー1つを買うためには800円が必要である。また、為替レートが1ドル=200円であれば、同じハンバーガーを1つ買うために1600円が必要となる。したがって、為替レートが1ドル=100円であれば購買力平価に比べて為替レートは 、為替レートが1ドル=200円であれば購買力平価に比べて為替レートは である。為替レートは長期的に購買力平価に近づいていくと考えるのが購買力平価仮説である。

為替レートが であれば、輸入企業にとっては有利だが、輸出企業にとっては不利になる。一方、 であれば、輸出企業にとっては有利だが、輸入企業にとっては不利である。

また、為替レートは、日米間の金利差や貿易収支によっても変動する。たとえば、他の要因を一定として、アメリカで金利が上昇すれば 、アメリカの対日貿易赤字が拡大すれば になると考えられる。

(1) 空欄 (A) ~ (D) に入る語句の組合せとして、最も適切なものを以下から選べ。

- ① (A) 円高 (B) 円安 (C) 円高 (D) 円安
- ② (A) 円高 (B) 円安 (C) 円安 (D) 円高
- ③ (A) 円安 (B) 円高 (C) 円高 (D) 円安
- ④ (A) 円安 (B) 円高 (C) 円安 (D) 円高

(2) 空欄 (E), (F) に入る語句の組合せとして、最も適切なものを以下から選べ。 14

- ① (E) 円高 (F) 円高 ② (E) 円高 (F) 円安
 ③ (E) 円安 (F) 円高 ④ (E) 円安 (F) 円安

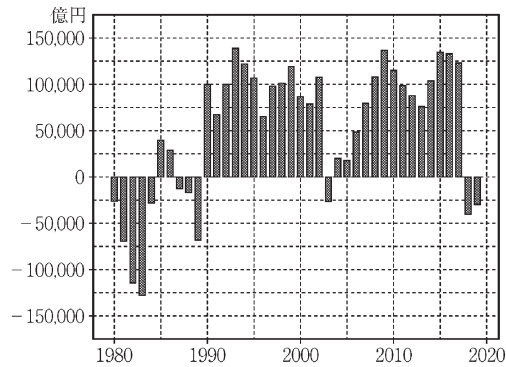
問3 図表2を見ながら、以下の問いに答えよ。

(1) 貿易依存度とは、輸出額と輸入額の合計を GDP (国内総生産) で割ったものである。2019年の GDP を560兆円とすれば、この年の貿易依存度はいくらになるか。最も適切なものを以下から選べ。 15

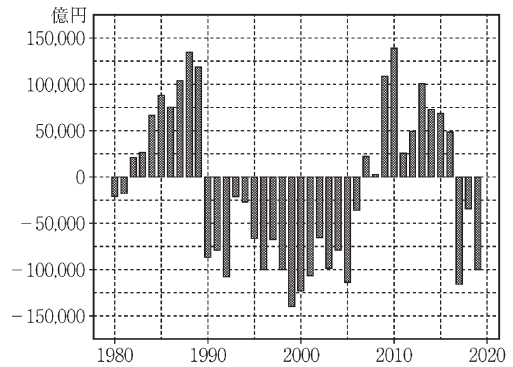
- ① 0.01 ② 0.03 ③ 0.11 ④ 0.28

(2) 日本の貿易収支の推移を表すグラフとして、最も適切なものを以下から選べ。 16

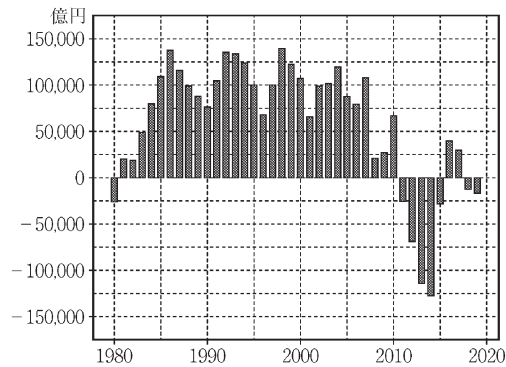
①



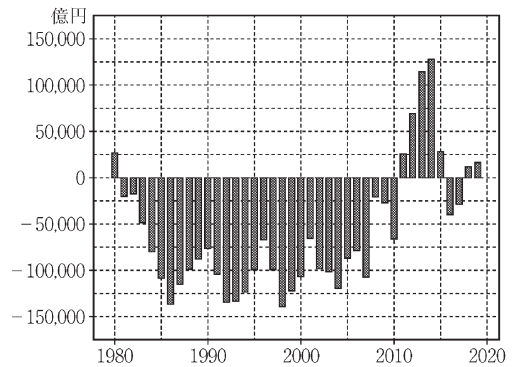
②



③



④



問4 国際収支に関する記述として、最も適切なものを以下から選べ。 17

- ① 海外直接投資は、資本移転等収支に含まれる。
- ② 貿易・サービス収支は、経常収支に含まれる。
- ③ 日本人が海外旅行先で支出した金額は、第二次所得収支に含まれる。
- ④ 国際機関への拠出金は、金融収支に含まれる。

問5 図表3の空欄(ア)、(イ)に入る品目の組合せとして、最も適切なものを以下から選べ。 18

- ① (ア) 鉄鋼 (イ) 液化天然ガス
- ② (ア) 鉄鋼 (イ) 石炭
- ③ (ア) 科学光学機器 (イ) 液化天然ガス
- ④ (ア) 科学光学機器 (イ) 石炭

問6 自由貿易がすべての国の利益になるという考え方と整合的なものとして、最も適切なものを以下から選べ。 19

- ① 独占禁止法
- ② 比較生産費説
- ③ 保護貿易主義
- ④ 量的緩和政策

第3問 次の文章を読んで、下の問いに答えよ。

世界の資本市場で ESG（環境・社会・企業統治）投資が広がっている。投資家が気候変動や人権問題に対する企業の対応を評価し、株式や債券を売買する手法だ。情報開示などの制度を整え、持続可能な経営を後押しする力として活用していきたい。

ESG は、国連が市場の力を世界規模の問題解決に生かすため、金融関係者の意見をもとにつくった考えだ。^(ア)^(イ)2006年4月27日にアナン国連事務総長（当時）がニューヨーク証券取引所での式典に臨み「投資の意思決定に ESG の要素を組み込む」などと定めた「責任投資原則」（PRI）を公表した。

それから15年が経過し、今では全世界で3000を超える年金や財団、資産運用会社^(ウ)が PRI の支持を表明している。その運用資産の総額は100兆ドル超に達した。すべてが ESG 投資に回っているわけではないが、環境や社会問題を重視する投資の潜在的な規模や、影響力の大きさを推し量ることができる。

欧米では投資家が企業に環境対策を問う事例が増えた。日本ではみずほフィナンシャルグループの2020年の株主総会で、脱炭素に向けた行動計画の策定を求め^(エ)る株主提案に30%超の賛同が集まった。欧米の年金基金などが環境団体の提案を支持した結果だ。

社会問題も関心の領域が広がっている。軍事クーデターの起きたミャンマーや、新疆ウイグル自治区の人権問題を抱える中国で事業を続ける妥当性を、投資家はしばしば企業にただしている。

企業はこうした市場の声にしっかりと耳を傾ける必要がある。脱炭素の取り組みや人権への配慮は収益の圧迫要因になりかねない。しかし、長い目で見ればビジネスの持続可能性を高める。^(オ)短期の利益追求だけでは、企業は社会に受け入れられない。長期の投資家の支持も失ってしまう。

資産運用会社にも注文がある。ESG 運用の成果を高めるには環境・人権などに関する深い知識が必要とされる。大学の研究室や市民団体との交流を通じて専門性を蓄積すべきだ。

企業の ESG 情報の開示は世界的に多くの基準が並び立ち、混乱も生じている。

これを簡素化し、統合する計画が欧米で始まった。日本の金融庁や産業界、運用会社は国際基準づくりの議論に積極的に参加してほしい。^(カ)

(出典)「市場の声を持続可能な経営の後押しに」、日本経済新聞、2021年4月29日朝刊。
ただし、出題のために一部を改変した。

問1 下線部(ア)に関連して、以下の問いに答えよ。

(1) 国連の常任理事国として、最も適切なものを以下から選べ。 20

- ① アメリカ、イギリス、フランス、ロシア、中国
- ② アメリカ、イギリス、フランス、日本、中国
- ③ アメリカ、イギリス、フランス、ドイツ、中国
- ④ アメリカ、イギリス、フランス、ドイツ、日本

(2) 2015年に国連で採択された持続可能な開発目標の略称として、最も適切なものを以下から選べ。 21

- ① SNS ② SDGs ③ SALT ④ SOHO

(3) 先進国と発展途上国の経済格差やそれに伴う政治・文化的対立を表す用語として、最も適切なものを以下から選べ。 22

- ① 東西冷戦 ② 南北問題 ③ 南北戦争 ④ 東西問題

(4) 先進国と発展途上国の格差の解消を目的として設立された国際機関として、最も適切なものを以下から選べ。 23

- ① WHO ② UNESCO ③ UNCTAD ④ WTO

問2 下線部(イ)に関連して、世界規模の問題の一つである人口爆発の説明として、最も適切なものを以下から選べ。 **24**

- ① 発展途上国を中心に人口が加速度的に増加すること
- ② 先進国で高齢者の全人口における比率が加速度的に拡大すること
- ③ 先進国で人口が加速度的に減少すること
- ④ 発展途上国から先進国への不法移民の数が急増すること

問3 下線部(ウ)に関連して、ヘッジファンドの説明として、最も適切なものを以下から選べ。 **25**

- ① 年金を運用する公的組織
- ② 資金を集め、為替、株式、商品などに分散投資し利益を得る組織
- ③ 銀行などの金融機関が破綻した際、預金の払い戻しに応じる組織
- ④ 通貨の発行や通貨の流通量の調整を行う組織

問4 下線部(エ)に関連して、以下の問いに答えよ。

(1) 企業の生産過程で生じる公害や環境破壊の多くは、市場機構を通さずに多くの人に不利益を及ぼす現象とされるが、そのことを表す用語として、最も適切なものを以下から選べ。 **26**

- ① 間接金融
- ② 混合経済
- ③ 寡占
- ④ 外部不経済

(2) 日本で資源を維持し地球環境を保全するため、2000年に制定された法律として、最も適切なものを以下から選べ。 **27**

- ① 環境基本法
- ② 循環型社会形成推進基本法
- ③ 製造物責任法
- ④ 消費者保護法

問5 下線部(オ)に関連して、フェアトレードの説明として、最も適切なものを以下から選べ。 **28**

- ① 発展途上国で生産される農産物などの製品を、適正な価格で継続的に取引すること
- ② 貿易を行う2国間で輸入と輸出の額がほぼ同じになること
- ③ 各国がそれぞれの得意な技術を活かし国際的な分業を図ること
- ④ 企業が自社の利益を最大化するため、他国の低コストの労働力を活用しやくすること

問6 下線部(カ)に関連して、過去に締結された国際的ルール先例であるワシントン条約の説明として、最も適切なものを以下から選べ。 **29**

- ① 絶滅の恐れのある野生動物の取引を規制する条約
- ② 温室効果ガスの排出規制に関する条約
- ③ 文化遺産や自然遺産の保護に関する条約
- ④ 地域紛争を逃れた難民の保護に関する条約