

# 地理答案紙 (その1)

## 問題 I

問 1

(1)

A  B  C   
D  E

(2)

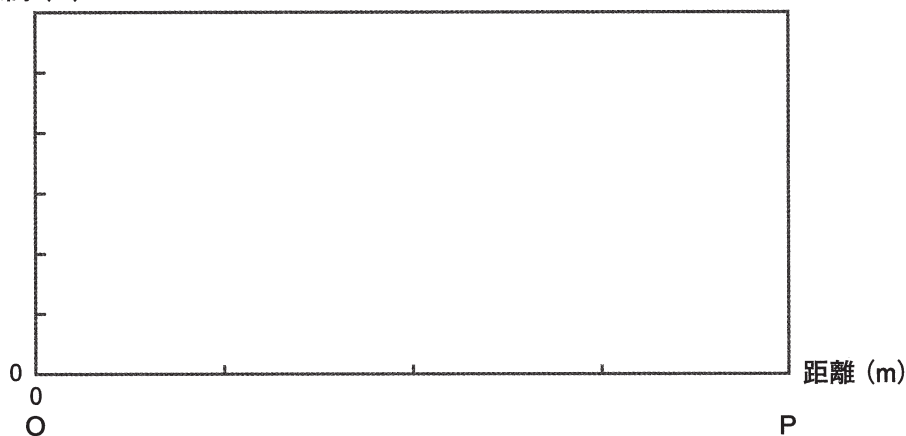
問 2

(1)

(2)

(3)

標高 (m)




(4)

# 地理答案紙 (その2)

問題 I

問 2  
(5)



# 地理答案紙 (その3)

## 問題 II

問 1

(1)

ア

イ

ウ

判断の理由

(2)

A

B

C

D

(3)

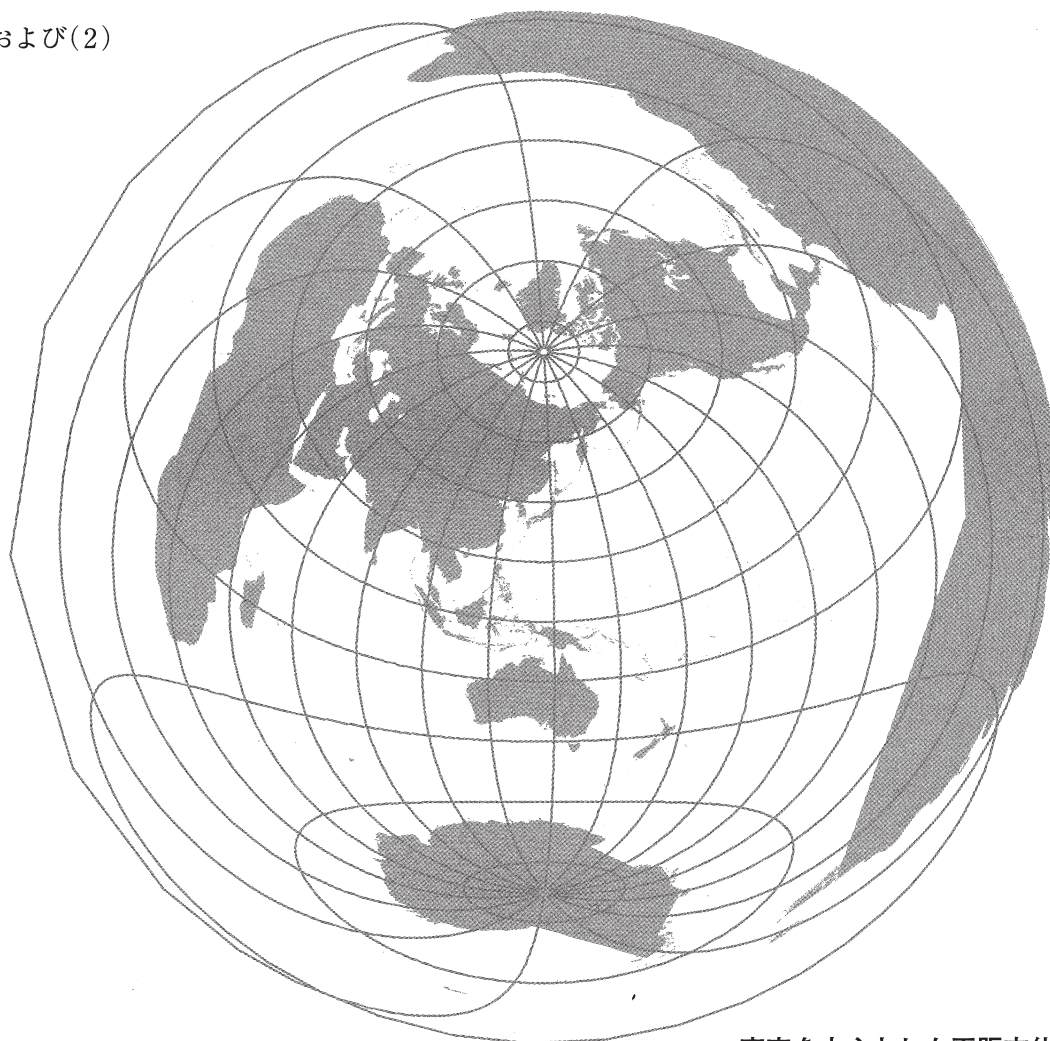
(4)

# 地理答案紙 (その4)

## 問題 II

### 問 2

(1) および(2)



東京を中心とした正距方位図法(緯線経線の間隔は20度)

- (3) あ  い  う  え   
お  か  き  く

(4)

(5)

# 地理答案紙 (その5)

## 問題 III

問 1

a

問 2

問 3

問 4

b

問 5

①

②

①と②の産出地の地理的分布

問 6

# 地理答案紙 (その6)

## 問題 Ⅲ

問 7

c

問 8

問 9

d

問 10