

地学問題 I

問 1

ア

イ

ウ


問 2

A


B

問 3

問 4



問 5



問 6

(1)

(2) X

Y

(3)

地学問題 II

問1

ア

イ

ウ

エ

オ

問2

問 3

(1)

(2)

解 答 用

(3)

# 解 答 用

## 問 4

(1)

A large, empty rectangular box with a black border, intended for the student's answer to question 4(1).

(2)

A large, empty rectangular box with a black border, intended for the student's answer to question 4(2).

地学問題 III

問 1

ア

イ

ウ

エ

オ

問 2

問 3



# 解 答 用

## 問 4

(1)

(2)

(i)

(ii)

## 問 5

## 問 6

地学問題 IV

問 1

ア

イ

問 2


問 3

問 4

(1)


(2)

問 5



問 6

(1)



(2)

